

整数と小数7

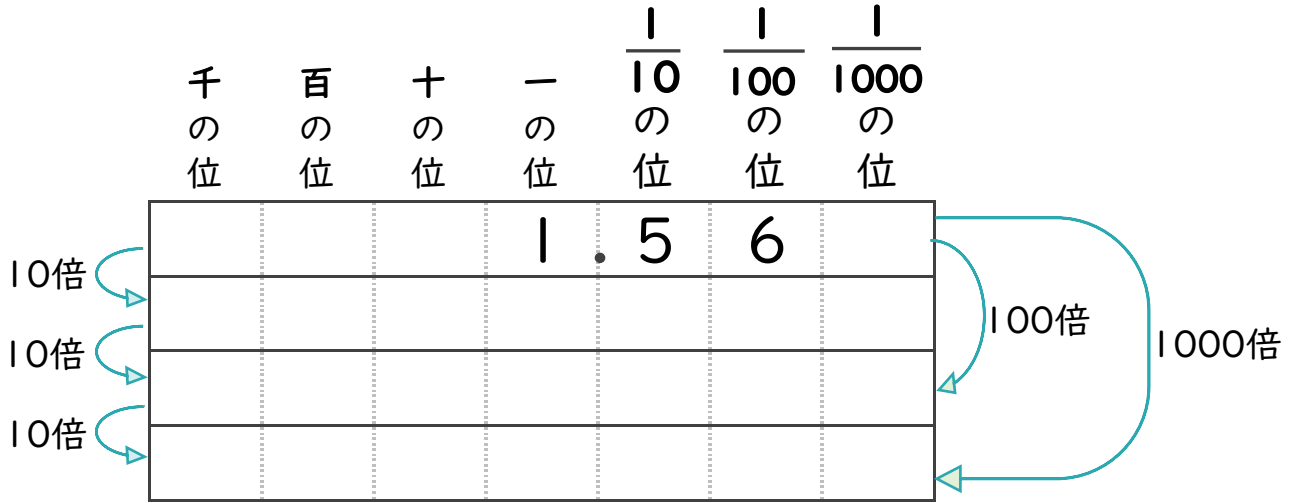
◎10倍, 100倍などの位の移動



日にち： 月 日

名まえ

・ 1.56 を10倍、100倍、1000倍すると、どんな数になるでしょう？

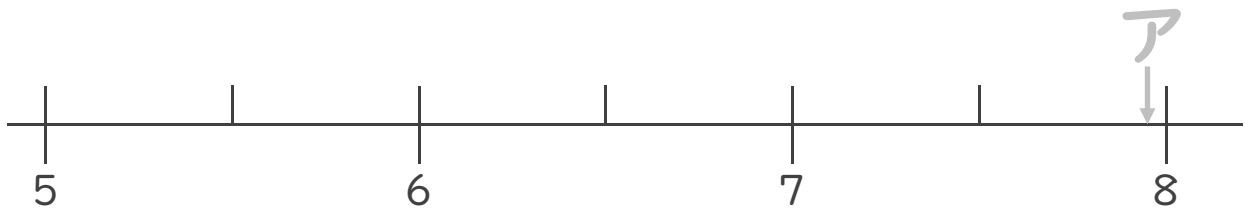


・ 次のア～エの数について、次の問いに答えましょう

ア 7.976 イ 5.705

ウ 6.1 エ 7.26

① ア～エの数を、数直線上に記号で書きこみましょう。




② いちばん大きい数はいくつですか。

答え：

③ いちばん小さい数はいくつですか。

答え：



整数と小数7

◎10倍, 100倍などの位の移動



日にち： 月 日

名まえ

・ 1.56 を10倍、100倍、1000倍すると、どんな数になるでしょう？

	千の位	百の位	十の位	一の位	$\frac{1}{10}$ の位	$\frac{1}{100}$ の位	$\frac{1}{1000}$ の位
				1	.	5	6
10倍			1	5	.	6	
10倍	1	5	6				
10倍	1	5	6	0			

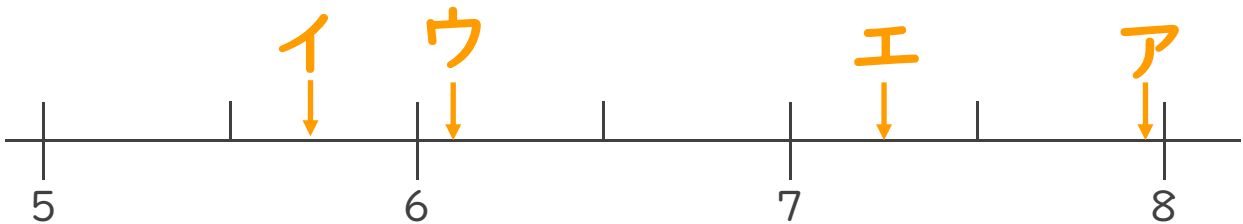
100倍 (from 1.56 to 156)
1000倍 (from 1.56 to 1560)

・ 次のア～エの数について、次の問いに答えましょう

ア 7.976 イ 5.705

ウ 6.1 エ 7.26

① ア～エの数を、数直線上に記号で書きこみましょう。



② いちばん大きい数はいくつですか。

答え： ア

③ いちばん小さい数はいくつですか。

答え： イ