



# 整数と小数7

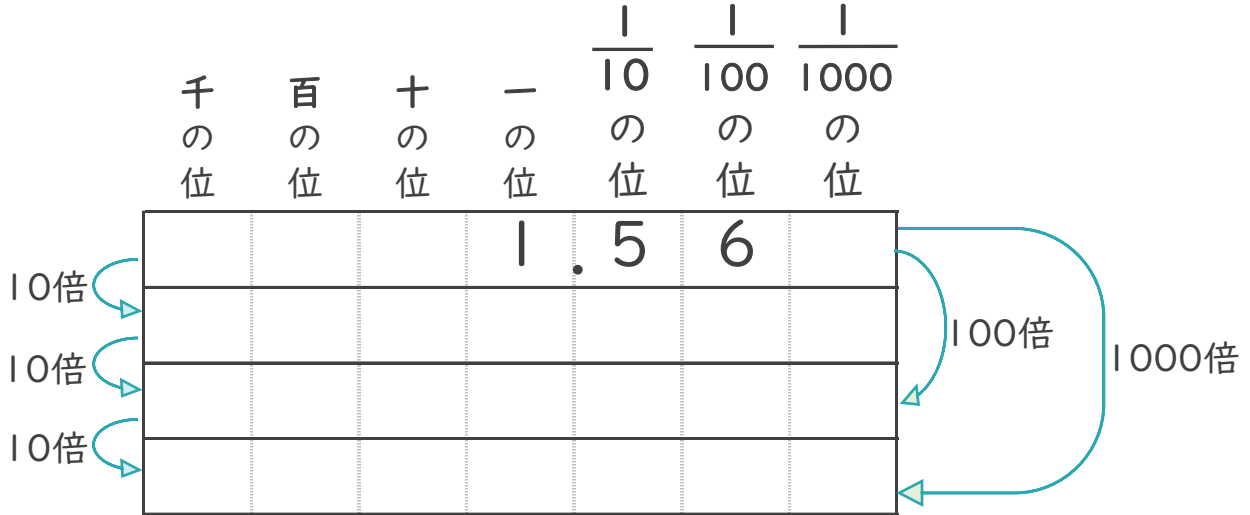
◎10倍, 100倍などの位の移動



日にち： 月 日

名まえ \_\_\_\_\_

1 1.56を10倍、100倍、1000倍すると、どんな数になるでしょう。

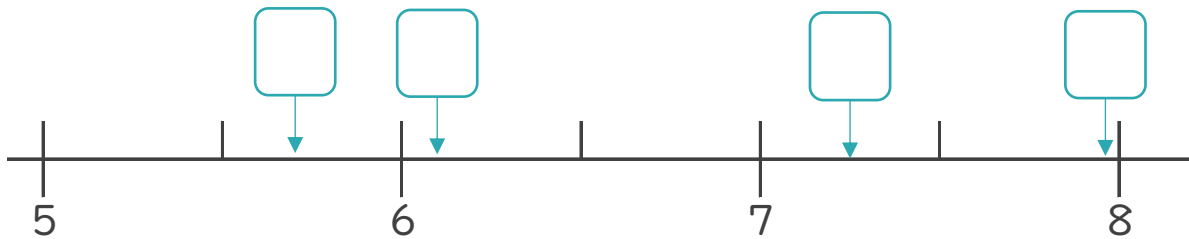


2 次のア～エの数について、次の問いに答えましょう。

ア 7.976      イ 5.705

ウ 6.1      エ 7.26

① 次の数直線の  にあてはまる数を、ア～エから書きましょう。



② いちばん大きい数はいくつですか。      答え： \_\_\_\_\_

③ いちばん小さい数はいくつですか。      答え： \_\_\_\_\_



# 整数と小数7

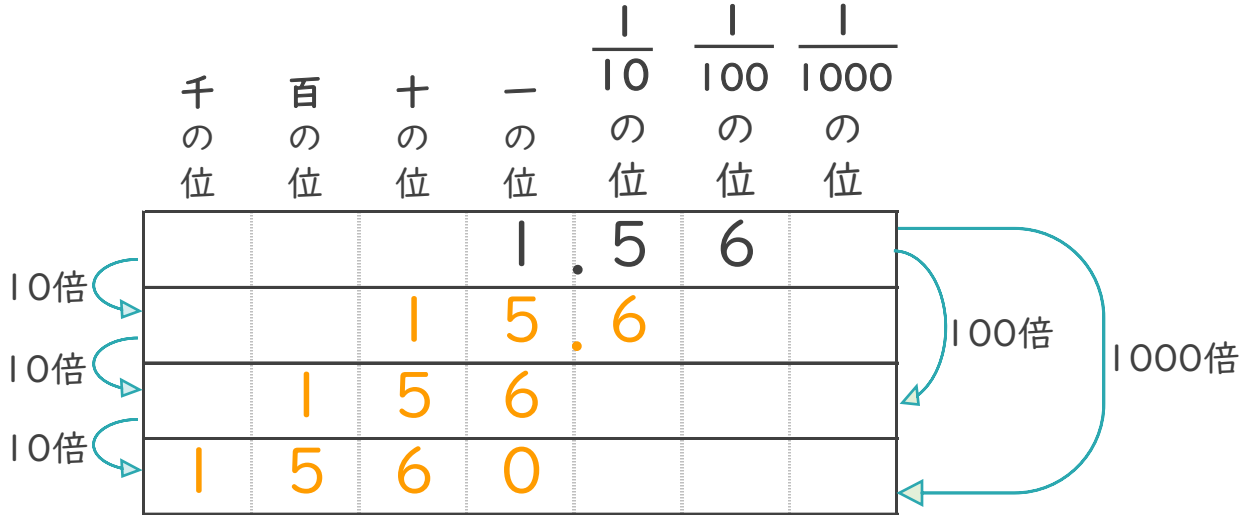
◎10倍, 100倍などの位の移動



日にち： 月 日

名まえ \_\_\_\_\_

1 1.56を10倍、100倍、1000倍すると、どんな数になるでしょう。



2 次のア～エの数について、次の問いに答えましょう。

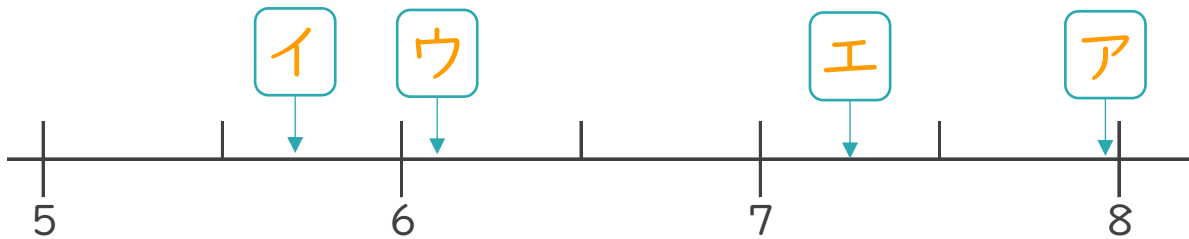
ア 7.976

イ 5.705

ウ 6.1

エ 7.26

① 次の数直線の  にあてはまる数を、ア～エから書きましょう。



② いちばん大きい数はいくつですか。

答え： ア

③ いちばん小さい数はいくつですか。

答え： イ

