

# 小数のかけ算 17

◎ 直方体の体積

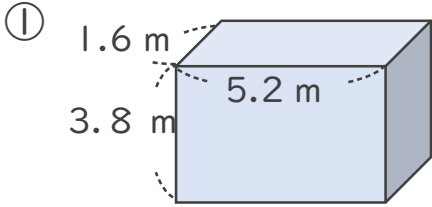
15

点数 点

目指せ80点!

名まえ \_\_\_\_\_

・ 次の立体の体積は何  $m^3$  でしょうか。(式：20点、筆算・答え：各10点)



式： \_\_\_\_\_

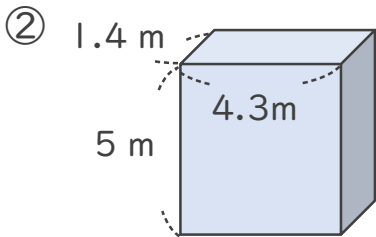
<筆算>

<筆算>

× \_\_\_\_\_

× \_\_\_\_\_

答え： \_\_\_\_\_



式： \_\_\_\_\_

<筆算>

<筆算>

× \_\_\_\_\_

× \_\_\_\_\_

答え： \_\_\_\_\_





# 小数のかけ算 17

◎ 直方体の体積

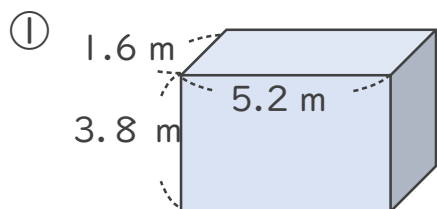
15

点数 点

目指せ80点!

名まえ \_\_\_\_\_

・ 次の立体の体積は何  $m^3$  でしょうか。(式：20点、筆算・答え：各10点)



式：  $1.6 \times 5.2 \times 3.8 = 31.616$

---

<筆算>

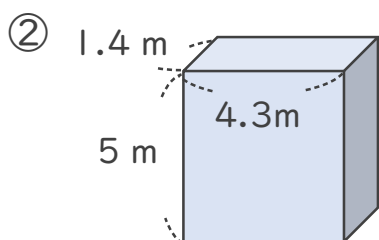
$$\begin{array}{r} 1.6 \\ \times 5.2 \\ \hline 32 \\ 80 \\ \hline 8.32 \end{array}$$

<筆算>

$$\begin{array}{r} 8.32 \\ \times 3.8 \\ \hline 6656 \\ 2496 \\ \hline 31.616 \end{array}$$

答え：  $31.616 m^3$

---



式：  $1.4 \times 4.3 \times 5 = 30.1$

---

<筆算>

$$\begin{array}{r} 1.4 \\ \times 4.3 \\ \hline 42 \\ 56 \\ \hline 6.02 \end{array}$$

<筆算>

$$\begin{array}{r} 6.02 \\ \times 5 \\ \hline 30.10 \end{array}$$

答え：  $30.1 m^3$

---

