




小数のわり算 18

◎ あまりのあるわり算
(商が整数)

15


目指せ80点!




名まえ _____

1 商は一の位まで求めて、あまりも出しましょう。(各20点)


① $15.8 \div 2.6$



② $5.2 \div 2.7$



③ $65.2 \div 4.6$



④ $89.4 \div 7.9$



2 商が2より大きくなるのはどれですか。(各20点)

① $2 \div 0.1$

② $2 \div 2.2$

③ $2 \div 0.2$

④ $2 \div 1.1$

答え： _____



小数のわり算 18

◎ あまりのあるわり算
(商が整数)



目指せ80点!



名まえ

1 商は一の位まで求めて、あまりも出しましょう。(各20点)

① $15.8 \div 2.6$

| | | | | |
|---|---|---|----|---|
| | | | | 6 |
| 2 | 6 |) | 15 | 8 |
| | | | 15 | 6 |
| | | | | 0 |
| | | | | 2 |

② $5.2 \div 2.7$

| | | | | |
|---|---|---|---|---|
| | | | | 1 |
| 2 | 7 |) | 5 | 2 |
| | | | 2 | 7 |
| | | | | 2 |
| | | | | 5 |

③ $65.2 \div 4.6$

| | | | | | |
|---|---|---|---|---|---|
| | | | | 1 | 4 |
| 4 | 6 |) | 6 | 5 | 2 |
| | | | 4 | 6 | |
| | | | | 1 | 9 |
| | | | | 1 | 8 |
| | | | | | 0 |
| | | | | | 8 |

④ $89.4 \div 7.9$

| | | | | | |
|---|---|---|---|---|---|
| | | | | 1 | 1 |
| 7 | 9 |) | 8 | 9 | 4 |
| | | | 7 | 9 | |
| | | | | 1 | 0 |
| | | | | | 4 |
| | | | | | 7 |
| | | | | | 9 |
| | | | | | 2 |
| | | | | | 5 |

2 商が2より大きくなるのはどれですか。(各20点)

① $2 \div 0.1$

② $2 \div 2.2$

③ $2 \div 0.2$

④ $2 \div 1.1$

答え： ① と ③