

小数のわり算 17

◎ わる数と商の大きさの関係

15

点数 点

目指せ75点!

名まえ

1 商が9より大きくなるのはどれですか? (25点)

- ① $9 \div 0.4$ ② $9 \div 0.9$ ③ $9 \div 1.05$ ④ $9 \div 2$

答え:


2 商が3より大きくなるのはどれですか? (25点)

- ① $3 \div 2$ ② $3 \div 0.66$ ③ $3 \div 0.9$ ④ $3 \div 1.8$


答え:


3 次の計算をしなさい。 (各25点)

① $1.2 \div 7.5$



② $0.9 \div 1.8$





小数のわり算 17

◎ わる数と商の大きさの関係

15

点数 点

目指せ75点!

名まえ

1 商が9より大きくなるのはどれですか? (25点)

- ① $9 \div 0.4$ ② $9 \div 0.9$ ③ $9 \div 1.05$ ④ $9 \div 2$

答え: ① と ②

2 商が3より大きくなるのはどれですか? (25点)

- ① $3 \div 2$ ② $3 \div 0.66$ ③ $3 \div 0.9$ ④ $3 \div 1.8$

答え: ② と ③

3 次の計算をなさい。(各25点)

① $1.2 \div 7.5$

			0	.	1	6	
7	.	5)	1	.	2	0
					7	5	
					4	5	0
					4	5	0
							0

② $0.9 \div 1.8$

				0	.	5	
1	.	8)	0	.	9	0
					9	0	
							0