

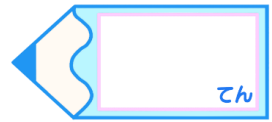


# 小数のわり算 17

◎ わる数と商の大きさの関係

15

目指せ75点!



名まえ \_\_\_\_\_

1 商が9より大きくなるのはどれですか。(25点)

①  $9 \div 0.4$

②  $9 \div 0.9$

③  $9 \div 1.05$

④  $9 \div 2$

答え： \_\_\_\_\_

2 商が3より大きくなるのはどれですか。(25点)

①  $3 \div 2$

②  $3 \div 0.66$

③  $3 \div 0.9$

④  $3 \div 1.8$


答え： \_\_\_\_\_

3 次の計算をしなさい。(各25点)

①  $1.2 \div 7.5$



②  $0.9 \div 1.8$



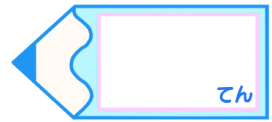


# 小数のわり算 17

◎ わる数と商の大きさの関係

15

目指せ75点!



名まえ \_\_\_\_\_

1 商が9より大きくなるのはどれですか。(25点)

- ①  $9 \div 0.4$
- ②  $9 \div 0.9$
- ③  $9 \div 1.05$
- ④  $9 \div 2$

答え： ① と ②

2 商が3より大きくなるのはどれですか。(25点)

- ①  $3 \div 2$
- ②  $3 \div 0.66$
- ③  $3 \div 0.9$
- ④  $3 \div 1.8$

答え： ② と ③

3 次の計算をしなさい。(各25点)

①  $1.2 \div 7.5$

			0.	1	6
7	5	)	1	2	0
			7	5	
			<hr/>		
			4	5	0
			4	5	0
					0

②  $0.9 \div 1.8$

			0.	5	
1	8	)	0	9	0
				9	0
				<hr/>	
					0