

小数の倍3

◎ リボンを小数倍した長さ

15

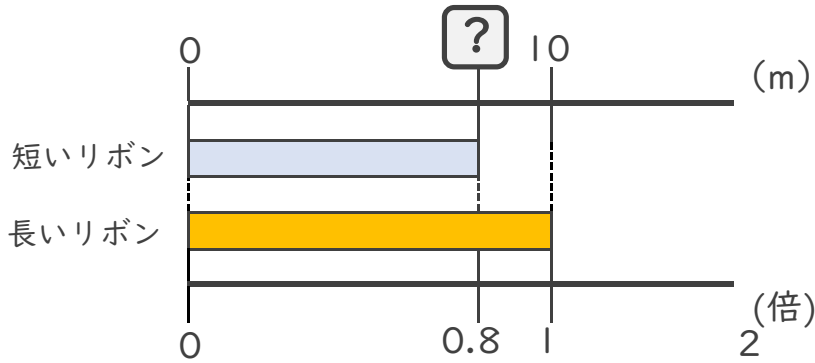
点数 点

目指せ75点!

名まえ

・ 次の問いに答えましょう。(各25点)

① 短いリボンは長いリボンの0.8倍の長さです。短いリボンの長さをもとめましょう。



式：

答え：

② 20mの赤いリボンがあります。青いリボンは赤いリボンの0.4倍の長さです。青いリボンの長さをもとめましょう。

式：

答え：

③ 25mのリボンと15mのリボンがあります。短いリボンは長いリボンの何倍でしょうか？

式：


答え：

④ 12mのリボンと5mのリボンがあります。長いリボンは短いリボンの何倍でしょうか？

式：

答え：





小数の倍3

㊦ リボンを小数倍した長さ

15

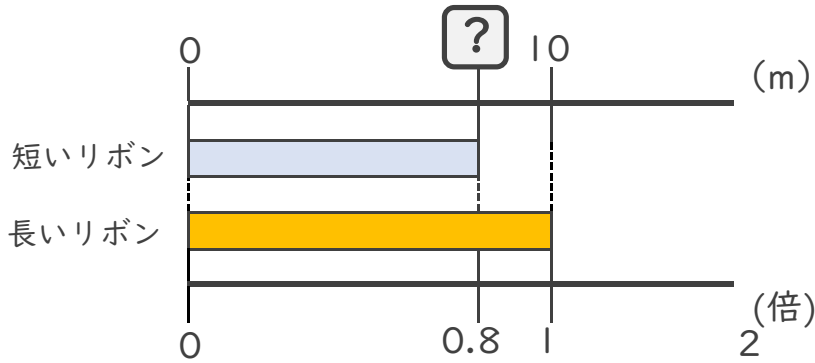
点数 点

目指せ75点!

名まえ

・ 次の問いに答えましょう。(各25点)

① 短いリボンは長いリボンの0.8倍の長さです。短いリボンの長さをもとめましょう。



式: $10 \times 0.8 = 8$

答え: 8m

② 20mの赤いリボンがあります。青いリボンは赤いリボンの0.4倍の長さです。青いリボンの長さをもとめましょう。

式: $20 \times 0.4 = 8$

答え: 8m

③ 25mのリボンと15mのリボンがあります。短いリボンは長いリボンの何倍でしょうか?

式: $15 \div 25 = 0.6$

答え: 0.6倍

④ 12mのリボンと5mのリボンがあります。長いリボンは短いリボンの何倍でしょうか?

式: $12 \div 5 = 2.4$

答え: 2.4倍

