

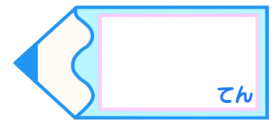


# 小数の倍3

◎ リボンを小数倍した長さ



目指せ75点!

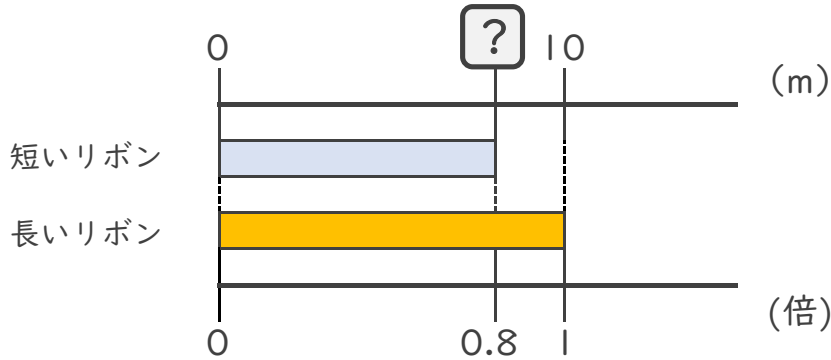


てん

名まえ

・ 次の問いに答えましょう。(各25点)

- ① 短いリボンは長いリボンの0.8倍の長さです。  
 短いリボンの長さをもとめましょう。



式：

答え：

- ② 20mの赤いリボンがあります。青いリボンは赤いリボンの0.4倍の長さです。青いリボンの長さをもとめましょう。

式：

答え：

- ③ 25mのリボンと15mのリボンがあります。  
 短いリボンは長いリボンの何倍ですか。

式：

答え：

- ④ 12mのリボンと5mのリボンがあります。  
 長いリボンは短いリボンの何倍ですか。

式：

答え：



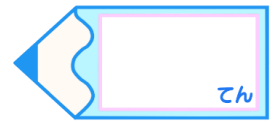


# 小数の倍3

◎ リボンを小数倍した長さ



目指せ75点!

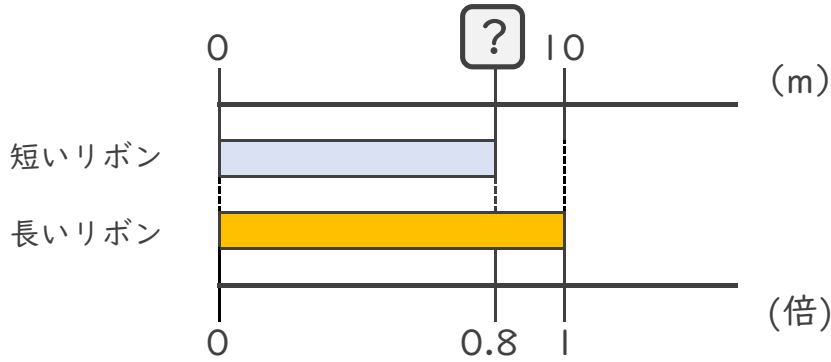


てん

名まえ

・ 次の問いに答えましょう。(各25点)

- ① 短いリボンは長いリボンの0.8倍の長さです。  
短いリボンの長さをもとめましょう。



式:  $10 \times 0.8 = 8$

答え: 8m

- ② 20mの赤いリボンがあります。青いリボンは赤いリボンの0.4倍の長さです。青いリボンの長さをもとめましょう。

式:  $20 \times 0.4 = 8$

答え: 8m

- ③ 25mのリボンと15mのリボンがあります。  
短いリボンは長いリボンの何倍ですか。

式:  $15 \div 25 = 0.6$

答え: 0.6倍

- ④ 12mのリボンと5mのリボンがあります。  
長いリボンは短いリボンの何倍ですか。

式:  $12 \div 5 = 2.4$

答え: 2.4倍

