




直方体や
立方体の体積 15
● 体積の単位の関係

めざせ80点!



名まえ _____

1 にあてはまる数を書きましょう。(各20点)

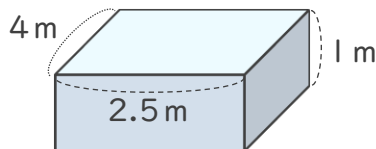
① $8 \text{ m}^3 =$ cm^3

② $30 \text{ mL} =$ cm^3

③ $6 \text{ m}^3 =$ L

④ $2000 \text{ L} =$ m^3

2 次の立体の体積は何 m^3 ですか。また、何 L ですか。(各10点)



式：

答え (m^3) ・ (L)



直方体や
立方体の体積 15
● 体積の単位の関係

めざせ80点!



名まえ _____

1 にあてはまる数を書きましょう。(各20点)

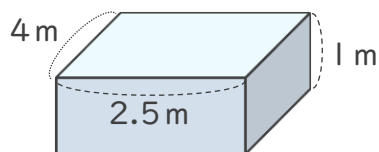
① $8 \text{ m}^3 =$ cm^3

② $30 \text{ mL} =$ cm^3

③ $6 \text{ m}^3 =$ L

④ $2000 \text{ L} =$ m^3

2 次の立体の体積は何 m^3 ですか。また、何 L ですか。(各10点)



式: $4 \times 2.5 \times 1 = 10 (\text{m}^3)$

答え (m^3) ・ (L)

