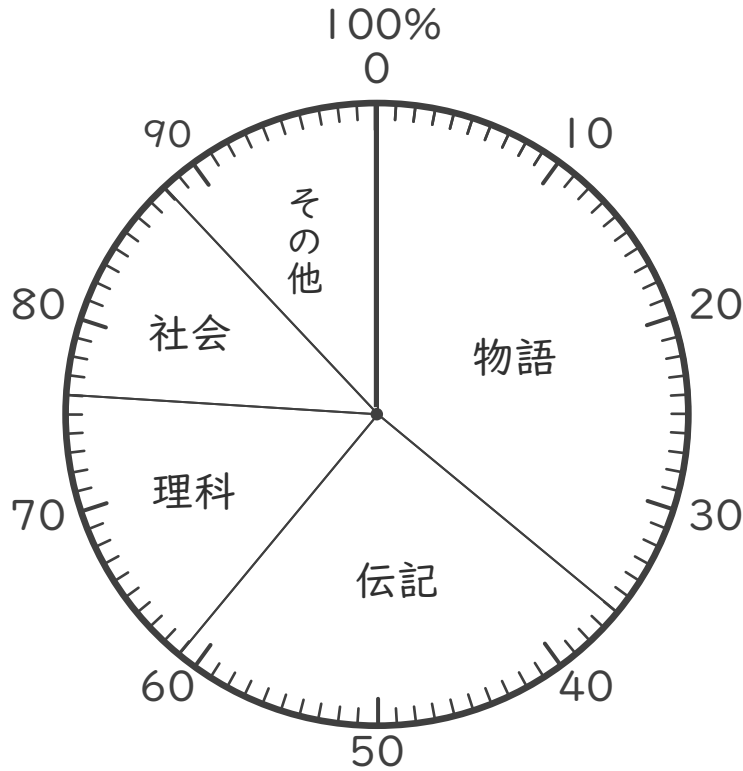




名まえ \_\_\_\_\_

・ 下の円グラフは、学級文庫の割合を表したものです。

学級文庫の割合



① 「理科」は全体の何%ですか。(30点)

( )


② 「物語」は「社会」の何倍ですか。(30点)

( )

③ 「伝記」と「理科」をあわせると全体のどれだけになりますか。  
分数で表しましょう。(40点)

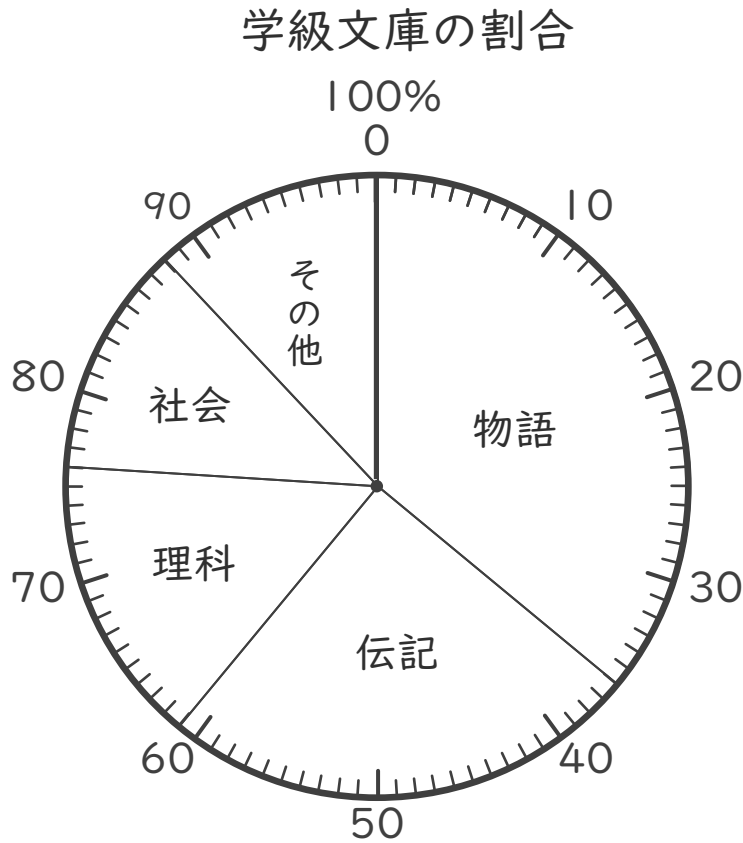
( )





名まえ \_\_\_\_\_

・ 下の円グラフは、学級文庫の割合を表したものです。



① 「理科」は全体の何%ですか。(30点)

( 15% )

② 「物語」は「社会」の何倍ですか。(30点)

$36 \div 12 = 3$

( 3倍 )

③ 「伝記」と「理科」をあわせると全体のどれだけになりますか。  
分数で表しましょう。(40点)

伝記 + 理科

$\frac{40}{100} = \frac{2}{5}$

全体

(  $\frac{2}{5}$  )

