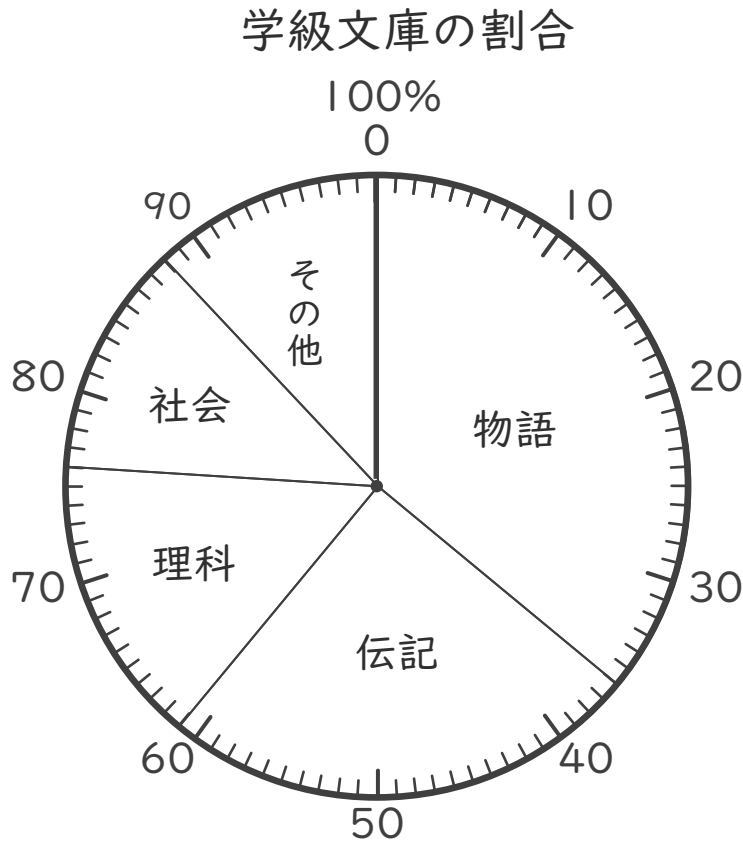


名まえ _____

・ 下の円グラフは、学級文庫の割合を表したものです。



① 「理科」は全体の何%ですか。(30点)


()

② 「物語」は「社会」の何倍ですか。(30点)

()

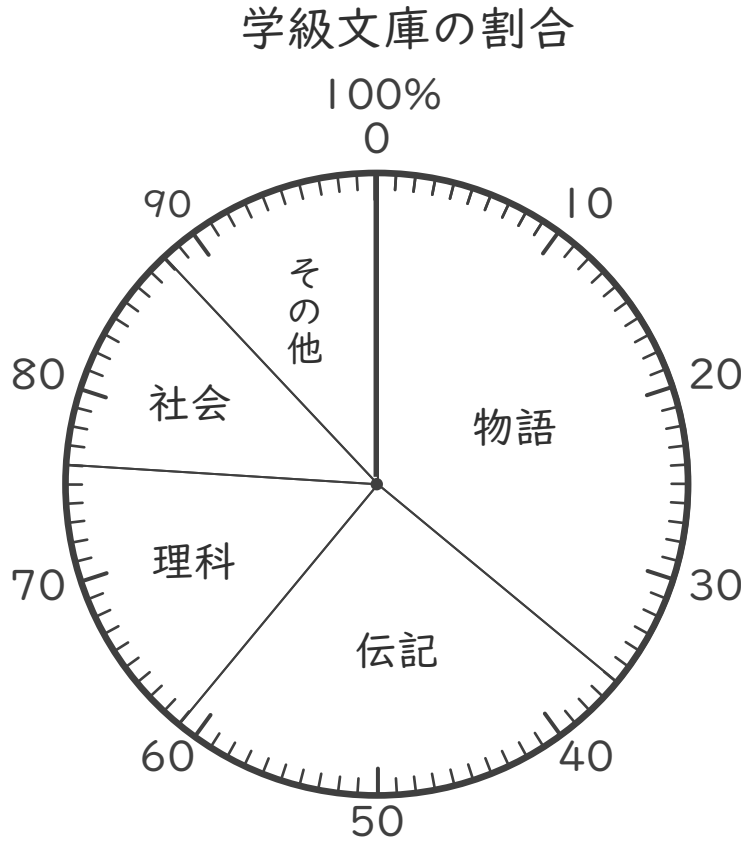
③ 「伝記」と「理科」をあわせると全体のどれだけになりますか。
分数で表しましょう。(40点)

()



名まえ _____

・ 下の円グラフは、学級文庫の割合を表したものです。



① 「理科」は全体の何%ですか。(30点)

(15%)

② 「物語」は「社会」の何倍ですか。(30点)

$36 \div 12 = 3$

(3倍)

③ 「伝記」と「理科」をあわせると全体のどれだけになりますか。
分数で表しましょう。(40点)

伝記 + 理科

$\frac{40}{100} = \frac{2}{5}$

全体

($\frac{2}{5}$)

