



合同な図形2

対応する辺や角探し

15

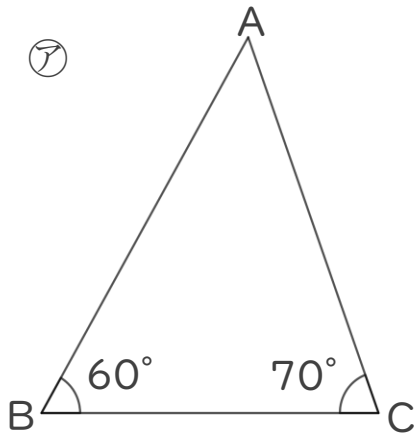
目指せ70点!



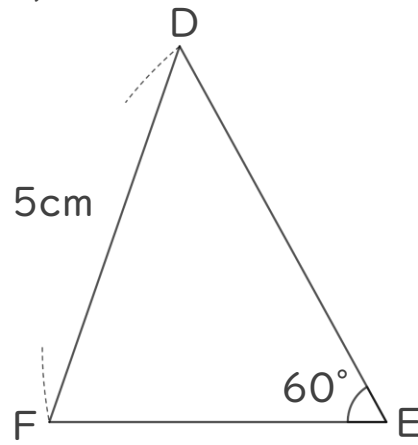
名まえ

1 ㉞と㉟の三角形は合同です。(各30点)

㉞



㉟



① 辺CAの長さは何cmですか。

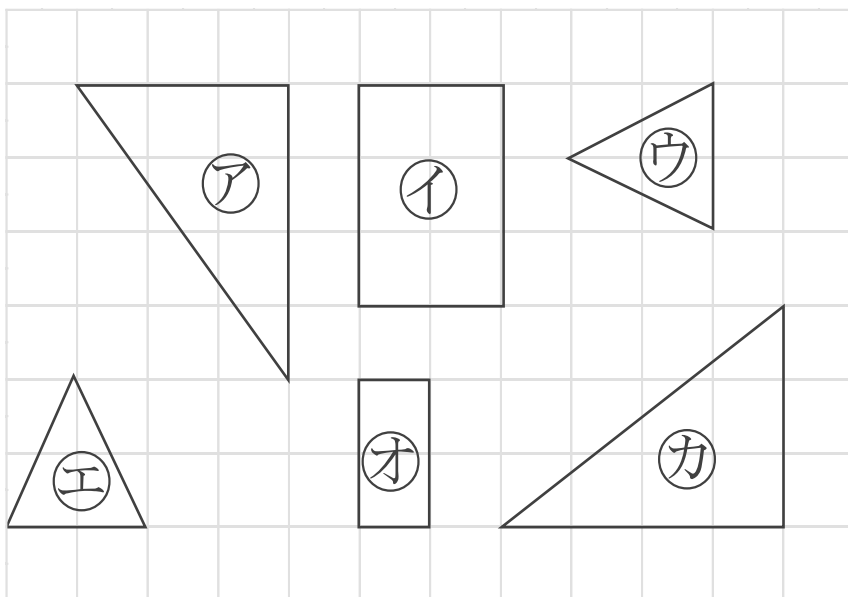
答え：

② 角Fの大きさは何度ですか。

答え：

2 次の図で、合同な図形はどれとどれですか。記号ですべて答えなさい。

(40点)



答え：




合同な図形2

対応する辺や角探し

15

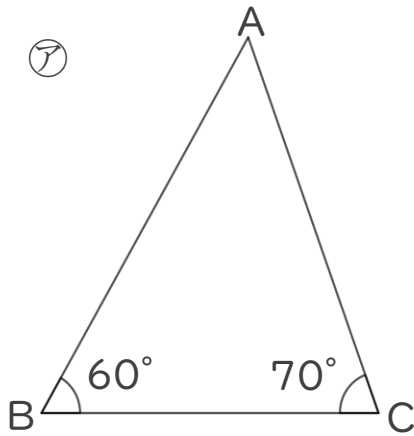
目指せ70点!



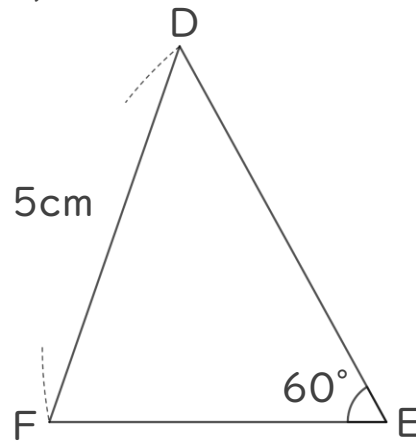
名まえ

1 ㉞と㉟の三角形は合同です。(各30点)

㉞



㉟



① 辺CAの長さは何cmですか。

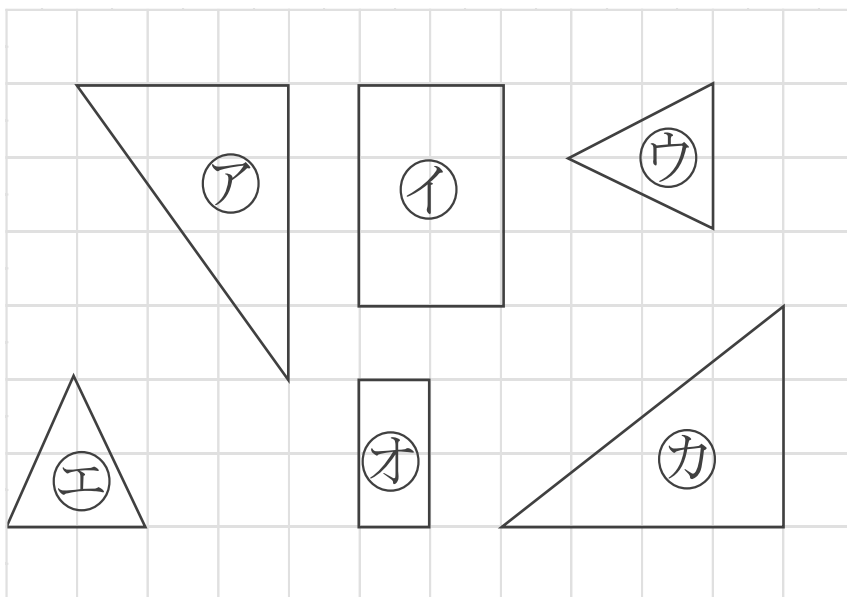
答え： 5cm

② 角Fの大きさは何度ですか。

答え： 70°

2 次の図で、合同な図形はどれとどれですか。記号ですべて答えなさい。

(40点)



答え： ㉞ と ㉞

㉞ と ㉞

