

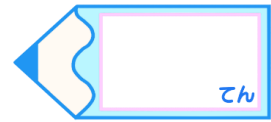


# 小数のわり算16

◎ わりすすみ  
(真小数÷真小数)

15

目指せ75点!




名まえ

・ 次の計算をしなさい。(各25点)

①  $2.52 \div 0.8$




②  $1.65 \div 0.6$



③  $0.65 \div 0.4$



④  $0.85 \div 0.4$






# 小数のわり算 16

◎ わりすすみ  
(真小数÷真小数)

15

目指せ75点!



名まえ

・ 次の計算をしなさい。(各25点)

①  $2.52 \div 0.8$

			3	.	1	5		
0	.	8	)	2	.	5	.	2
				2	4			
					1	2		
						8		
						4	0	
						4	0	
							0	

②  $1.65 \div 0.6$

					2	.	7	5
0	.	6	)	1	.	6	.	5
				1	2			
						4	5	
						4	2	
							3	0
							3	0
								0

③  $0.65 \div 0.4$

					1	.	6	2	5
0	.	4	)	0	.	6	.	5	
					4				
						2	5		
						2	4		
							1	0	
								8	
								2	0
								2	0
									0

④  $0.85 \div 0.4$

							2	.	1	2	5		
0	.	4	)	0	.	8	.	5					
							8						
										5			
										4			
											1	0	
												8	
												2	0
												2	0
													0

