




平均 2

◎ 平均の求め方

15

目指せ100点!



名まえ _____

・ 次の問題に答えましょう。

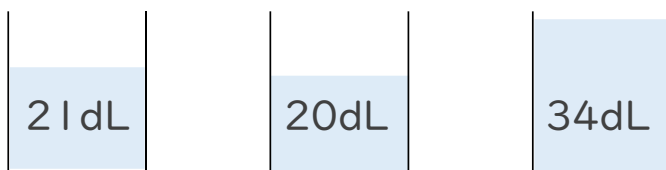
① 次の建物の高さの平均を求めましょう。(50点)

建物	A	B	C	D
高さ(m)	24	16	45	31

式:

答え ()

② 次の水のかさの平均を求めましょう。(50点)



式:

答え ()




平均 2

◎ 平均の求め方

15

目指せ100点!



名まえ _____

・ 次の問題に答えましょう。

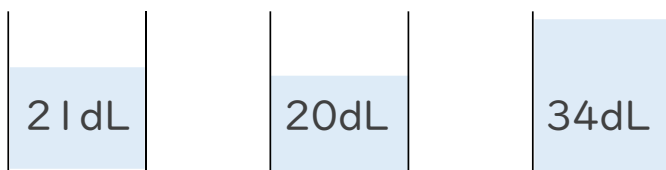
① 次の建物の高さの平均を求めましょう。(50点)

建物	A	B	C	D
高さ(m)	24	16	45	31

$$\begin{aligned} \text{式: } & (24 + 16 + 45 + 31) \div 4 \\ & = 116 \div 4 \\ & = 29 \end{aligned}$$

答え $\left[29\text{m} \right]$

② 次の水のかさの平均を求めましょう。(50点)



$$\begin{aligned} \text{式: } & (21 + 20 + 34) \div 3 \\ & = 75 \div 3 \\ & = 25 \end{aligned}$$

答え $\left[25\text{dL} \right]$