

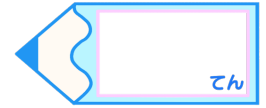


分数のたし算とひき算 I

◎ 数直線と大きさの等しい分数

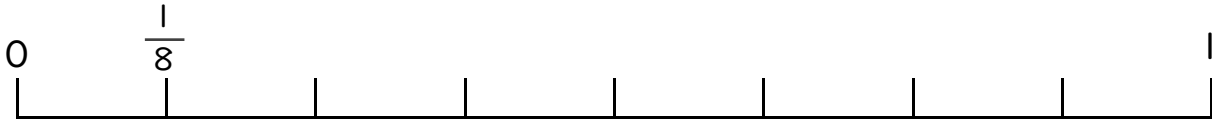
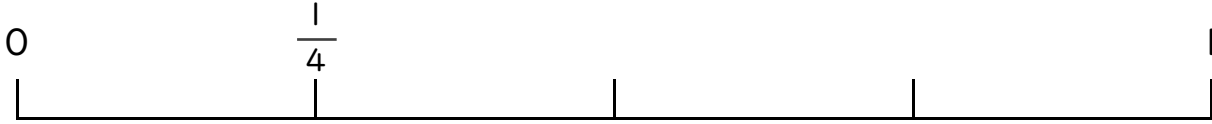
15

目指せ80点!



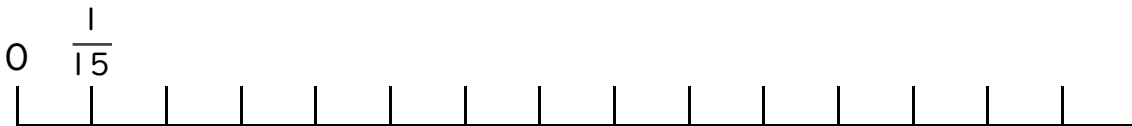
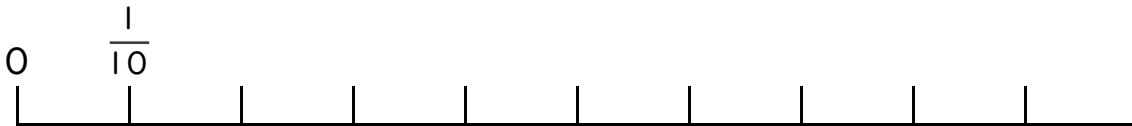
名まえ

1 $\frac{1}{4}$ と大きさの等しい分数を2つ見つけましょう。(各25点)



答え

2 $\frac{3}{5}$ と大きさの等しい分数を2つ見つけましょう。(各25点)



答え

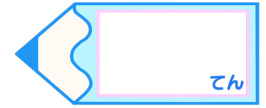


分数のたし算とひき算 I

◎ 数直線と大きさの等しい分数

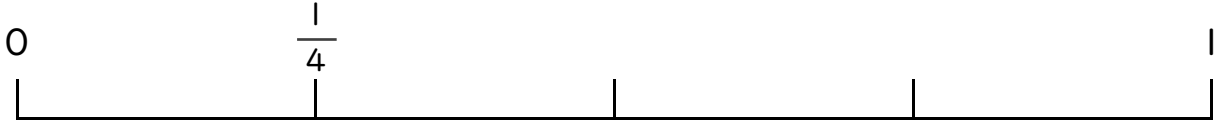
15

目指せ80点!



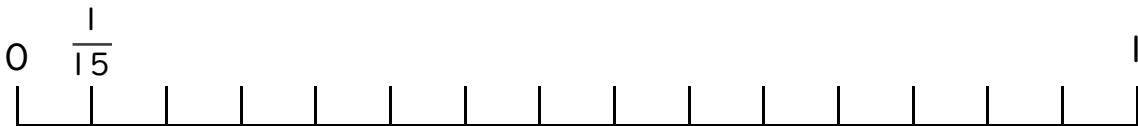
名まえ

1 $\frac{1}{4}$ と大きさの等しい分数を2つ見つけましょう。(各25点)



答え $\frac{2}{8}$ と $\frac{3}{12}$

2 $\frac{3}{5}$ と大きさの等しい分数を2つ見つけましょう。(各25点)



答え $\frac{6}{10}$ と $\frac{9}{15}$

