




# 分数のたし算とひき算 I

◎ 数直線と大きさの等しい分数

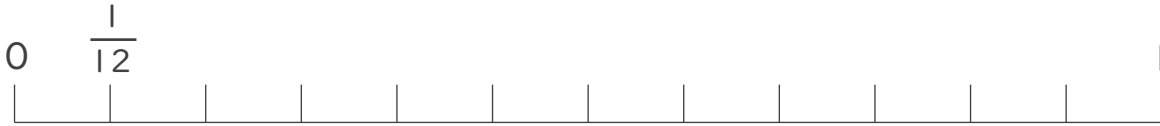
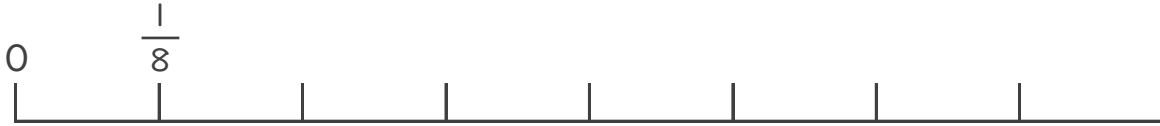
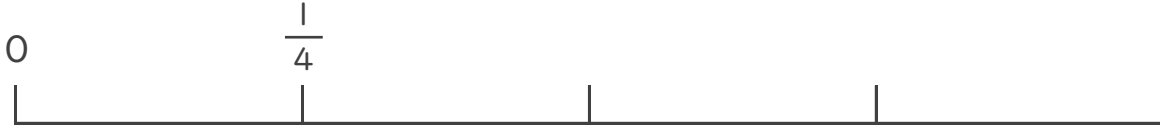
15

目指せ80点!



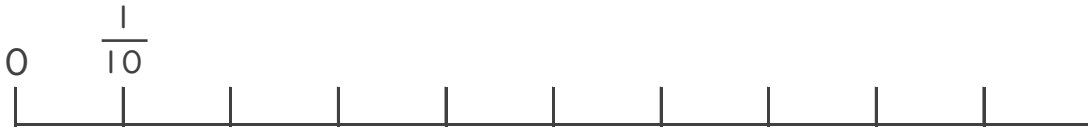
名まえ \_\_\_\_\_

1  $\frac{1}{4}$  と大きさの等しい分数を2つ見つけましょう。(各25点)



答え \_\_\_\_\_

2  $\frac{3}{5}$  と大きさの等しい分数を2つ見つけましょう。(各25点)



答え \_\_\_\_\_





# 分数のたし算とひき算 I

◎ 数直線と大きさの等しい分数

15

目指せ80点!



名まえ \_\_\_\_\_

1  $\frac{1}{4}$  と大きさの等しい分数を2つ見つけましょう。(各25点)



答え  $\frac{2}{8}$  と  $\frac{3}{12}$

2  $\frac{3}{5}$  と大きさの等しい分数を2つ見つけましょう。(各25点)



答え  $\frac{6}{10}$  と  $\frac{9}{15}$