

小数の倍2

◎ 短いリボンは長いリボンの何倍？

15

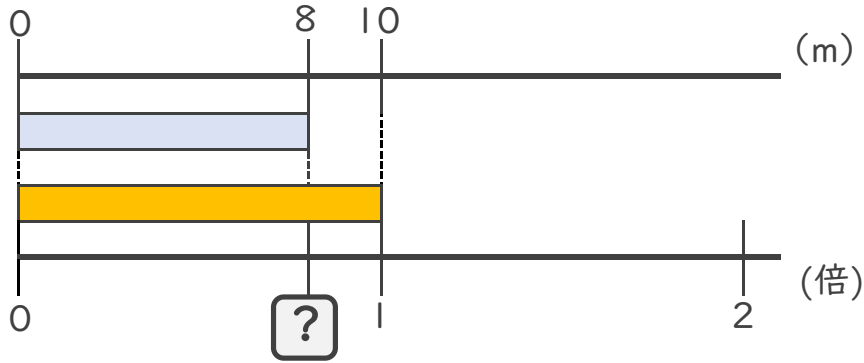
点数 点

目指せ80点!

名まえ _____

・ 次の問いに答えましょう。

① 短いリボンは長いリボンの何倍でしょうか？（式・答え 各20点）



式：

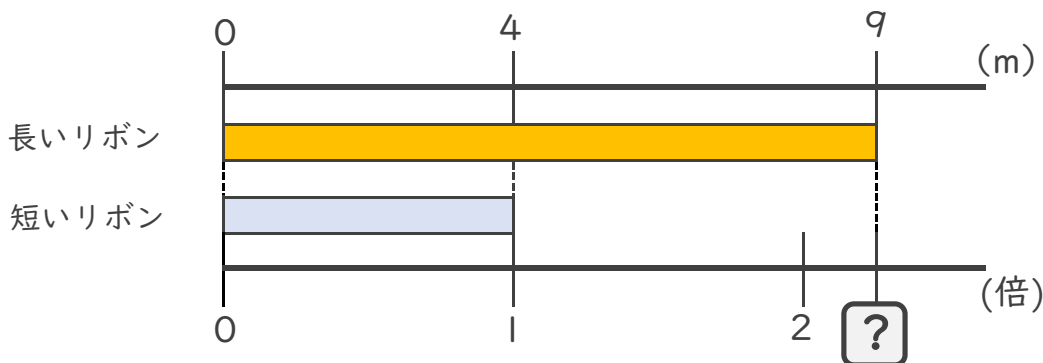
答え： _____

② 12mのリボンと16mのリボンがあります。
短いリボンは長いリボンの何倍でしょうか？（式・答え 各20点）

式：

答え： _____


③ 長いリボンは短いリボンの何倍でしょうか？（式・答え 各10点）



式：

答え： _____





小数の倍2

◎ 短いリボン
長いリボンの何倍？

15

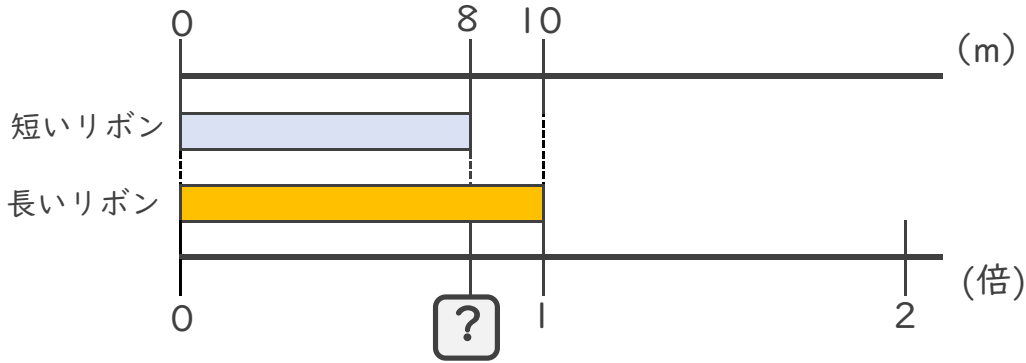
点数 点

目指せ80点!

名まえ

・ 次の問いに答えましょう。

① 短いリボンは長いリボンの何倍でしょうか？（式・答え 各20点）



式： $8 \div 10 = 0.8$

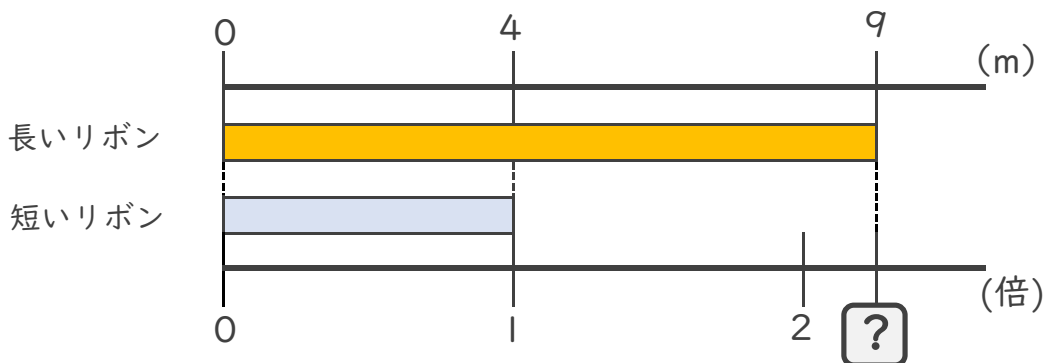
答え： 0.8倍

② 12mのリボンと16mのリボンがあります。
短いリボンは長いリボンの何倍でしょうか？（式・答え 各20点）

式： $12 \div 16 = 0.75$

答え： 0.75倍

③ 長いリボンは短いリボンの何倍でしょうか？（式・答え 各10点）



式： $9 \div 4 = 2.25$

答え： 2.25倍

