

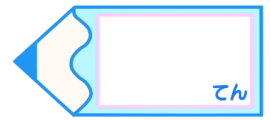


# 小数の倍2

◎ 短いリボンは  
長いリボンの何倍？



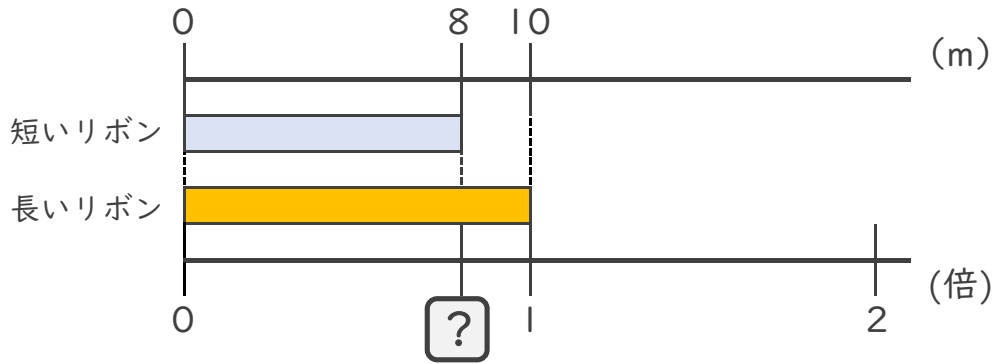
目指せ80点!



名まえ

・ 次の問いに答えましょう。

① 短いリボンは長いリボンの何倍ですか。(式・答え 各20点)



式：

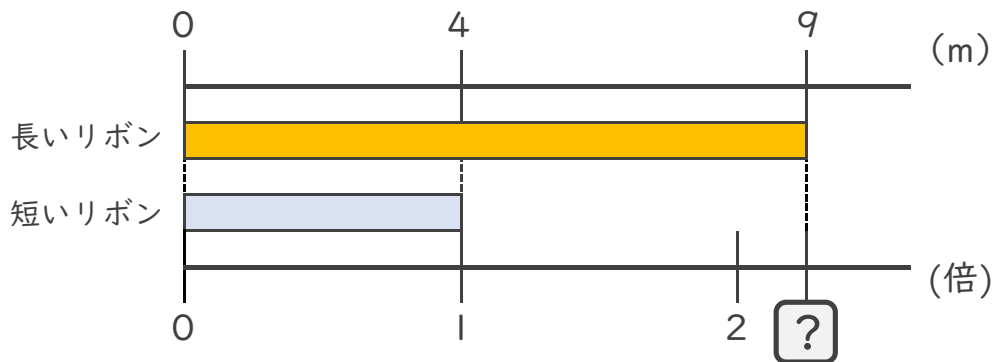
答え：

② 12mのリボンと16mのリボンがあります。  
短いリボンは長いリボンの何倍ですか。(式・答え 各20点)

式：

答え：

③ 長いリボンは短いリボンの何倍ですか。(式・答え 各10点)



式：

答え：



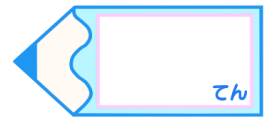


## 小数の倍2

◎ 短いリボンは  
長いリボンの何倍？

15

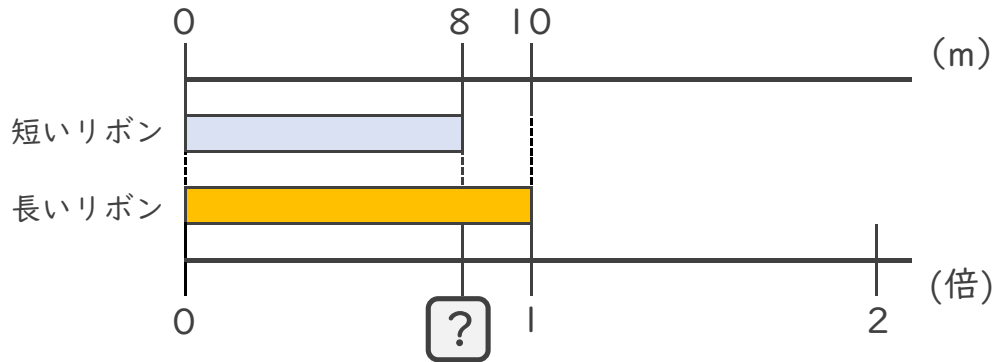
目指せ80点!



名まえ

・ 次の問いに答えましょう。

① 短いリボンは長いリボンの何倍ですか。(式・答え 各20点)



式:  $8 \div 10 = 0.8$

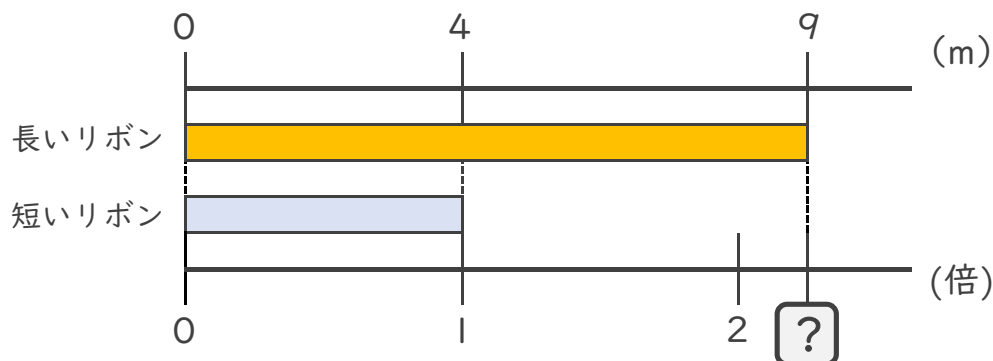
答え: 0.8倍

② 12mのリボンと16mのリボンがあります。  
短いリボンは長いリボンの何倍ですか。(式・答え 各20点)

式:  $12 \div 16 = 0.75$

答え: 0.75倍

③ 長いリボンは短いリボンの何倍ですか。(式・答え 各10点)



式:  $9 \div 4 = 2.25$

答え: 2.25倍

