



整数と小数6

◎ 色々な小数をつくる

15


目指せ75点!



名まえ _____

・ 下の に右のカードをあてはめて、いろいろな数をつくりましょう。(各25点)

<input type="text"/>	<input type="text"/>	.	<input type="text"/>	<input type="text"/>	<input type="text"/>
----------------------	----------------------	---	----------------------	----------------------	----------------------



① つくれる数のうち、いちばん小さい数はいくつですか。

答え： _____

② つくれる数のうち、いちばん大きい数はいくつですか。

答え： _____

③ つくれる数のうち、2番めに小さい数はいくつですか。

答え： _____

④ つくれる数のうち、2番めに大きい数はいくつですか。

答え： _____




整数と小数6

◎ 色々な小数をつくる

15


目指せ75点!



名まえ _____

・ 下の に右のカードをあてはめて、いろいろな数をつくりましょう。(各25点)

<input type="text"/>	<input type="text"/>	.	<input type="text"/>	<input type="text"/>	<input type="text"/>
----------------------	----------------------	---	----------------------	----------------------	----------------------



① つくれる数のうち、いちばん小さい数はいくつですか。

答え： 1 4.5 8 9

② つくれる数のうち、いちばん大きい数はいくつですか。

答え： 9 8.5 4 1

③ つくれる数のうち、2番めに小さい数はいくつですか。

答え： 1 4.5 9 8

④ つくれる数のうち、2番めに大きい数はいくつですか。

答え： 9 8.5 1 4