

小数の倍I

◎ 長いリボンは
短いリボンの何倍？

15

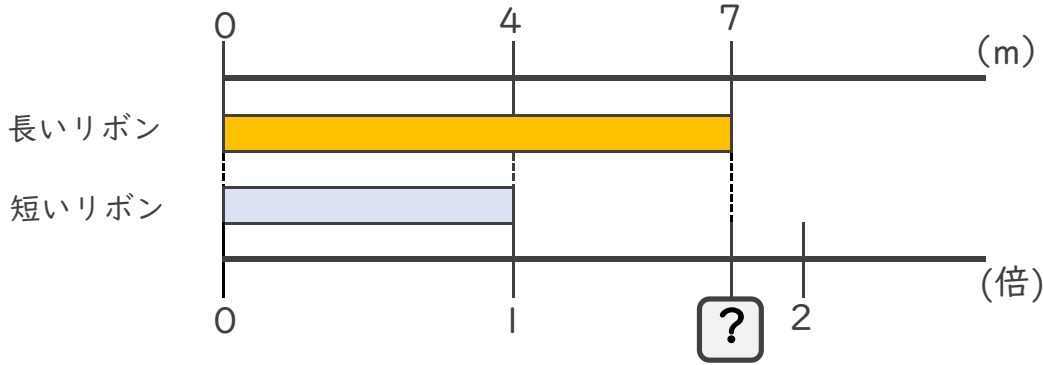
点数 点

目指せ75点!

名まえ _____

・ 次の問いに答えましょう。(各25点)

① 長いリボンは短いリボンの何倍でしょうか？



式：

答え： _____

② 5mのリボンと9mのリボンがあります。
長いリボンは短いリボンの何倍でしょうか？

式：

答え： _____

③ 15mのリボンと18mのリボンがあります。
長いリボンは短いリボンの何倍でしょうか？

式：


答え： _____

④ 4mのリボンと11mのリボンがあります。
長いリボンは短いリボンの何倍でしょうか？

式：

答え： _____





小数の倍①

◎ 長いリボンは
短いリボンの何倍？

15

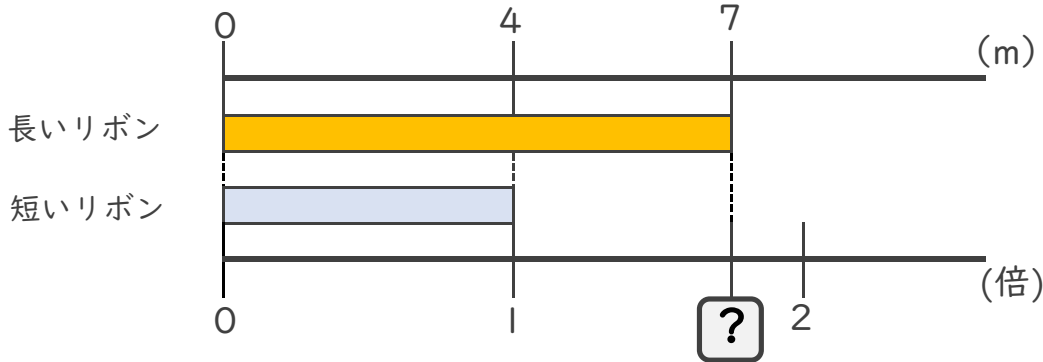
点数 点

目指せ75点!

名まえ _____

・ 次の問いに答えましょう。(各25点)

① 長いリボンは短いリボンの何倍でしょうか？



$$\text{式： } 7 \div 4 = 1.75$$

答え： 1.75倍

② 5mのリボンと9mのリボンがあります。
長いリボンは短いリボンの何倍でしょうか？

$$\text{式： } 9 \div 5 = 1.8$$

答え： 1.8倍

③ 15mのリボンと18mのリボンがあります。
長いリボンは短いリボンの何倍でしょうか？

$$\text{式： } 18 \div 15 = 1.2$$

答え： 1.2倍

④ 4mのリボンと11mのリボンがあります。
長いリボンは短いリボンの何倍でしょうか？

$$\text{式： } 11 \div 4 = 2.75$$

答え： 2.75倍

