

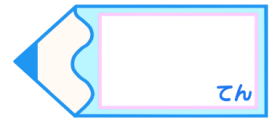


# 小数の倍①

◎ 長いリボンは  
短いリボンの何倍？



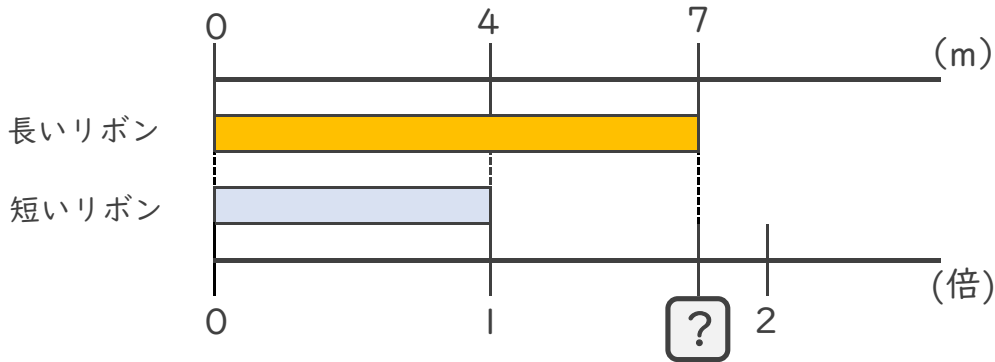
目指せ75点!



名まえ

・ 次の問いに答えましょう。(各25点)

① 長いリボンは短いリボンの何倍ですか。



式：

答え：

② 5mのリボンと9mのリボンがあります。  
長いリボンは短いリボンの何倍ですか。

式：

答え：

③ 15mのリボンと18mのリボンがあります。  
長いリボンは短いリボンの何倍ですか。

式：

答え：

④ 4mのリボンと11mのリボンがあります。  
長いリボンは短いリボンの何倍ですか。

式：

答え：



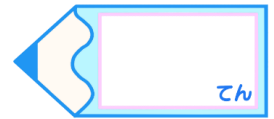


# 小数の倍①

◎ 長いリボンは  
短いリボンの何倍？



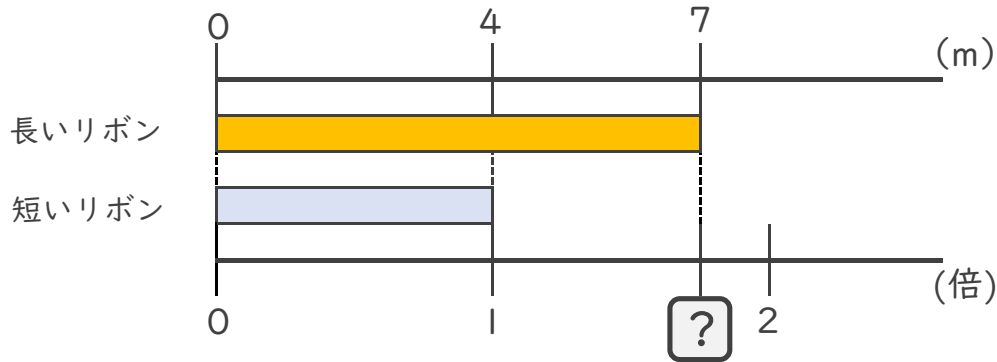
目指せ75点!



名まえ

・ 次の問いに答えましょう。(各25点)

① 長いリボンは短いリボンの何倍ですか。



式：  $7 \div 4 = 1.75$

答え： 1.75倍

② 5mのリボンと9mのリボンがあります。  
長いリボンは短いリボンの何倍ですか。

式：  $9 \div 5 = 1.8$

答え： 1.8倍

③ 15mのリボンと18mのリボンがあります。  
長いリボンは短いリボンの何倍ですか。

式：  $18 \div 15 = 1.2$

答え： 1.2倍

④ 4mのリボンと11mのリボンがあります。  
長いリボンは短いリボンの何倍ですか。

式：  $11 \div 4 = 2.75$

答え： 2.75倍

