



小数のかけ算 16

◎ 長方形の面積



目指せ80点!

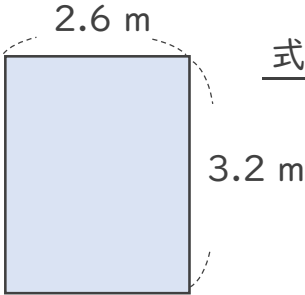


名まえ _____

1 次の長方形の面積は何㎡でしょうか。(各40点)

①

<筆算>



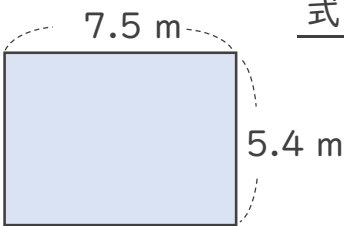
式: _____

×

答え: _____

②

<筆算>



式: _____

×

答え: _____

2 積が3より大きくなるもの、小さくなるものをすべて選び、番号を書きましょう。(各10点)

- ① 3×1 ② 3×1.9 ③ 3×0.9 ④ 3×0.8 ⑤ 3×1.2

大きくなるもの: _____

小さくなるもの: _____





小数のかけ算 16

◎ 長方形の面積



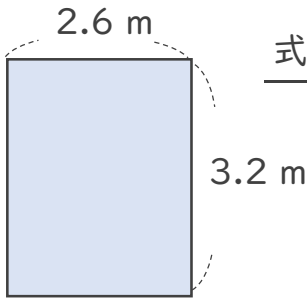
目指せ80点!



名まえ _____

1 次の長方形の面積は何㎡でしょうか。(各40点)

①



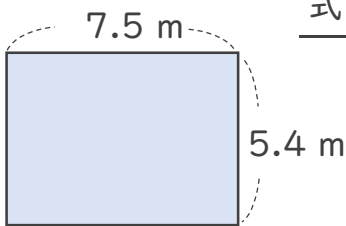
式: $3.2 \times 2.6 = 8.32$

答え: 8.32 m^2

<筆算>

$$\begin{array}{r} 3.2 \\ \times 2.6 \\ \hline 192 \\ 64 \\ \hline 8.32 \end{array}$$

②



式: $5.4 \times 7.5 = 40.5$

答え: 40.5 m^2

<筆算>

$$\begin{array}{r} 5.4 \\ \times 7.5 \\ \hline 270 \\ 378 \\ \hline 40.50 \end{array}$$

2 積が3より大きくなるもの、小さくなるものをすべて選び、番号を書きましょう。(各10点)

- ① 3×1 ② 3×1.9 ③ 3×0.9 ④ 3×0.8 ⑤ 3×1.2

大きくなるもの: ② と ⑤

小さくなるもの: ③ と ④

