



整数と小数7

◎10倍, 100倍などの位の移動



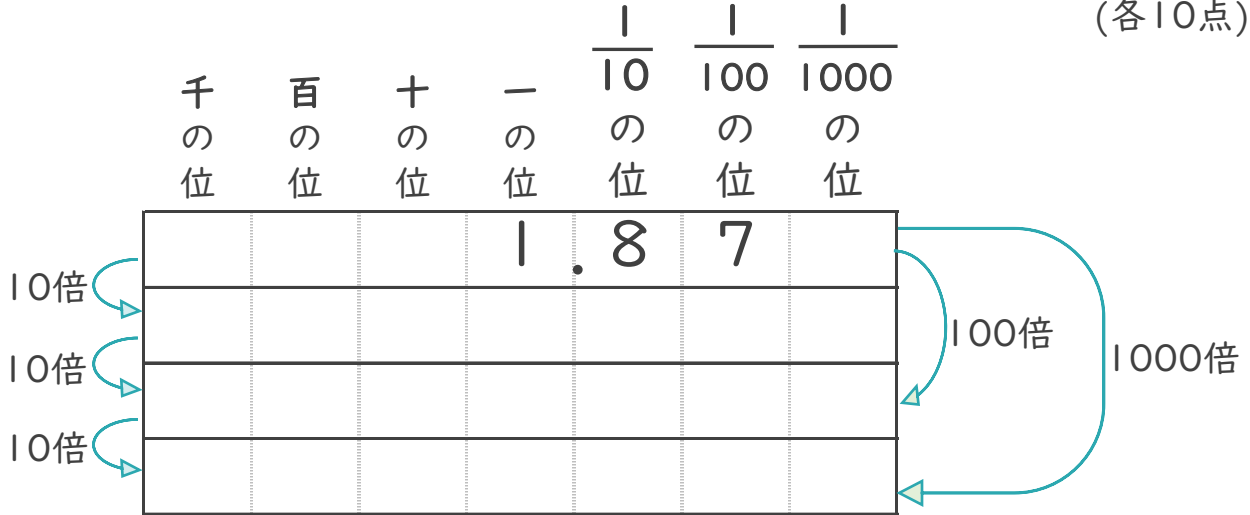
目指せ90点!



名まえ _____

1 1.87を10倍、100倍、1000倍すると、どんな数になるでしょう。

(各10点)



2 次のア～エの数について、次の問いに答えましょう。

ア 5.787

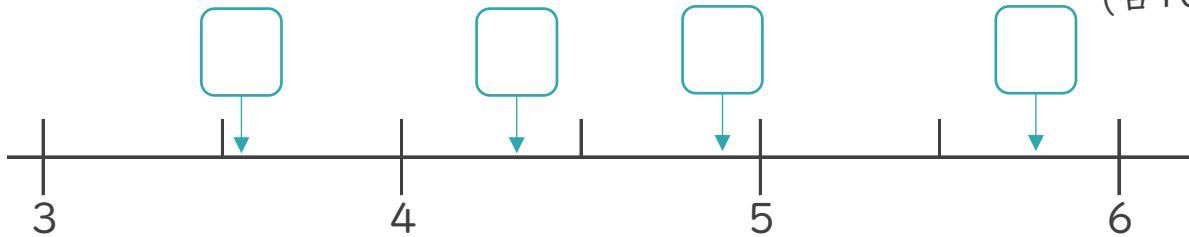
イ 3.56

ウ 4.321

エ 4.901

① 次の数直線の にあてはまる数を、ア～エから書きましょう。

(各10点)



② いちばん大きい数はいくつですか。(15点) 答え: _____

③ いちばん3に近い数はいくつですか。(15点) 答え: _____



整数と小数7

◎10倍, 100倍などの位の移動

15

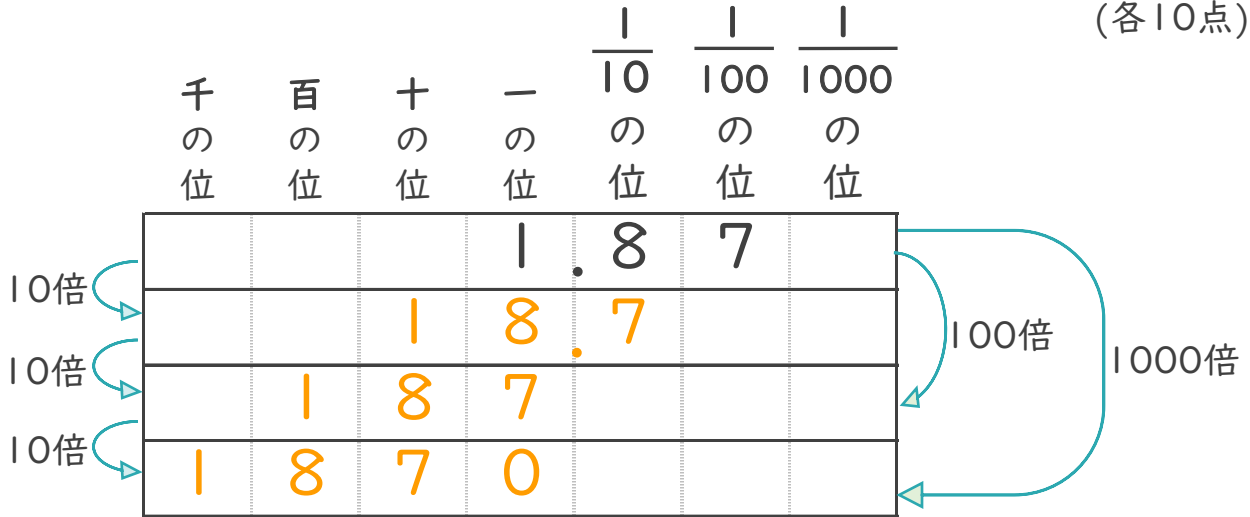
目指せ90点!



名まえ _____

1 | 1.87を10倍、100倍、1000倍すると、どんな数になるでしょう。

(各10点)



2 次のア～エの数について、次の問いに答えましょう。

ア 5.787

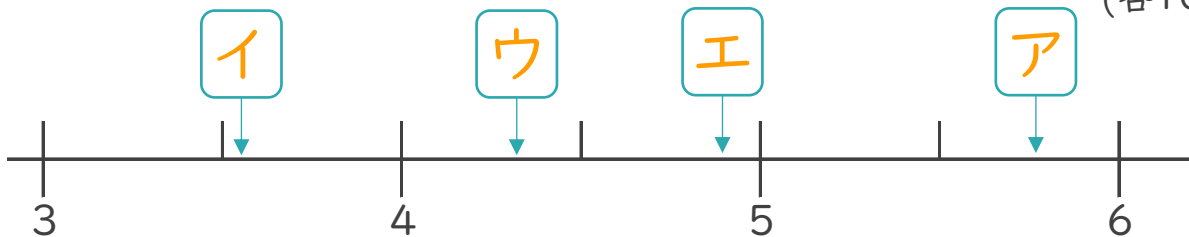
イ 3.56

ウ 4.321

エ 4.901

① 次の数直線の にあてはまる数を、ア～エから書きましょう。

(各10点)



② いちばん大きい数はいくつですか。(15点) 答え: イ

③ いちばん3に近い数はいくつですか。(15点) 答え: エ