




# 整数と小数8

15

◎10倍などの小数点の移動

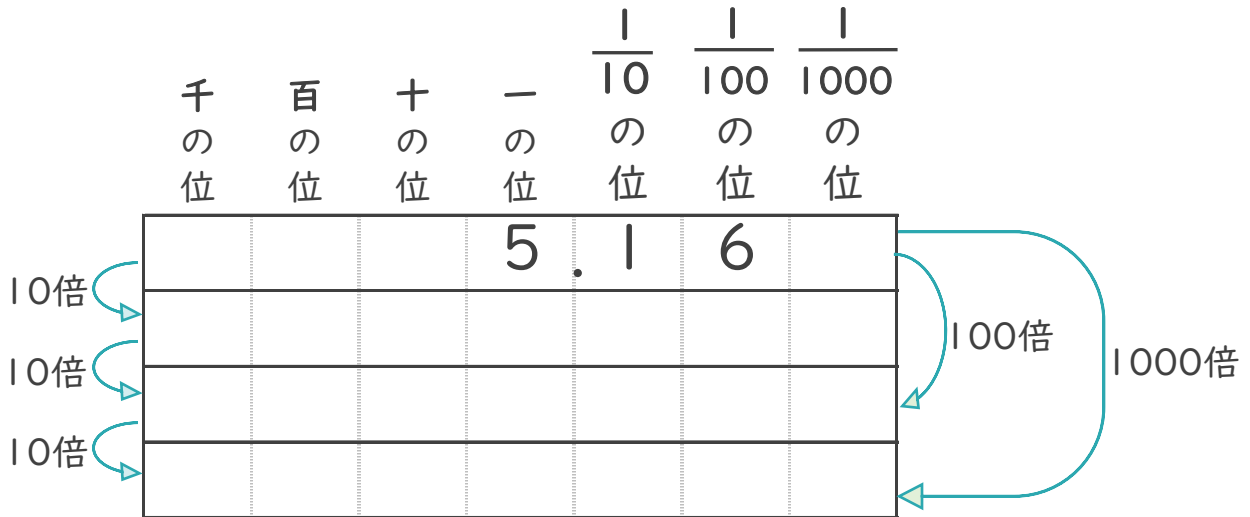
目指せ80点!



名まえ \_\_\_\_\_

1 5.16を10倍、100倍、1000倍するとどんな数になるでしょう。

(40点)



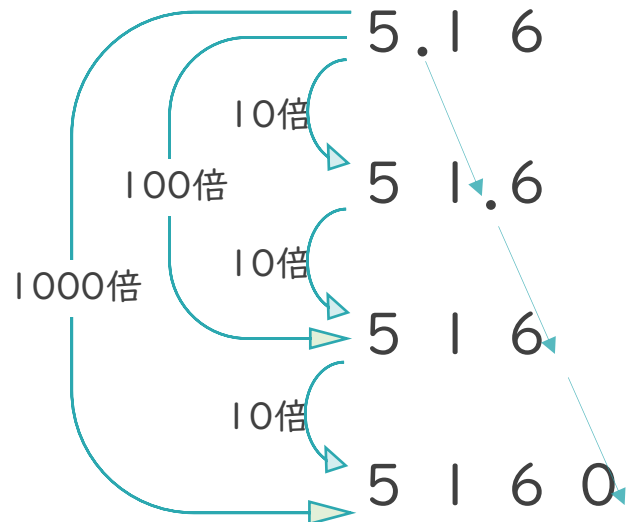
2 5.16を10倍、100倍、1000倍することを、式で表しましょう。

(各20点)

5.16 × 10 =

5.16 × 100 =

5.16 × 1000 =






# 整数と小数8

15

◎10倍などの小数点の移動

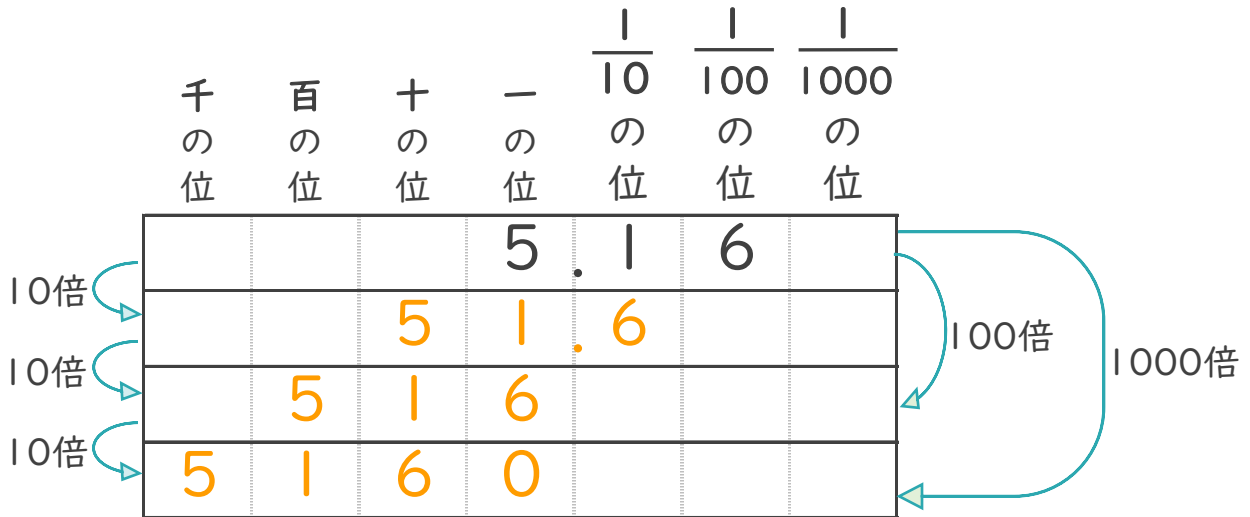
目指せ80点!



名まえ \_\_\_\_\_

1 5.16を10倍、100倍、1000倍するとどんな数になるでしょう。

(40点)



2 5.16を10倍、100倍、1000倍することを、式で表しましょう。

(各20点)

$$5.16 \times 10 = 51.6$$

$$5.16 \times 100 = 516$$

$$5.16 \times 1000 = 5160$$

