



直方体や 立方体の体積 5

● m と cm の混ざった
体積を求める計算

15

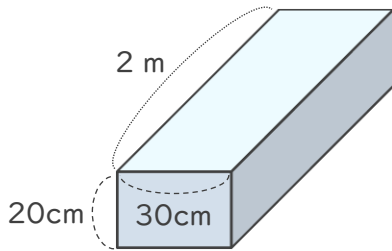
めざせ75点!



名まえ _____

・ 次の直方体や立方体の体積を求めましょう。(各25点)

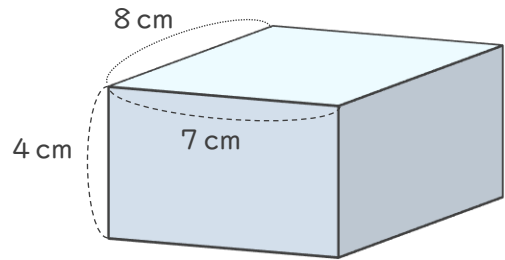
①



式

答え ()

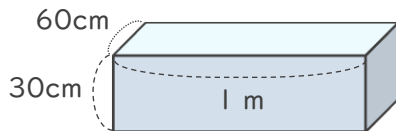
②



式

答え ()

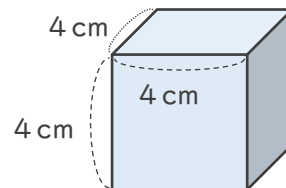
③



式

答え ()

④



式

答え ()



直方体や 立方体の体積 5

● m と cm の混ざった
体積を求める計算

15

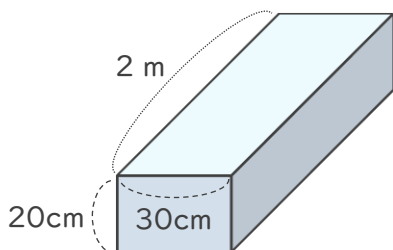
めざせ75点!



名まえ _____

・ 次の直方体や立方体の体積を求めましょう。(各25点)

①

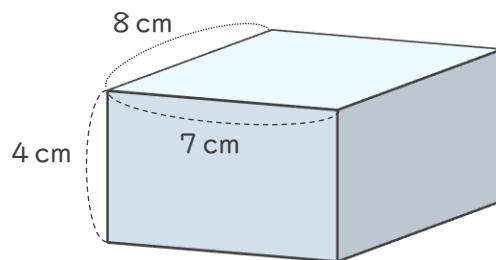


式

$$200 \times 30 \times 20 = 120000$$

答え (120000cm^3)

②

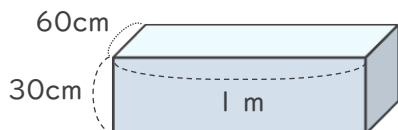


式

$$8 \times 7 \times 4 = 224$$

答え (224cm^3)

③

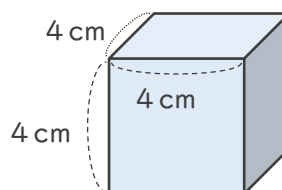


式

$$60 \times 100 \times 30 = 180000$$

答え (180000cm^3)

④



式

$$4 \times 4 \times 4 = 64$$

答え (64cm^3)

