



# 小数のかけ算 17

◎ 直方体の体積

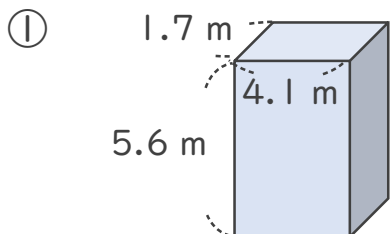
16

点数 点

目指せ80点!

名まえ \_\_\_\_\_

・ 次の立体の体積は何  $m^3$  でしょうか。(式：20点、筆算・答え：各10点)



式： \_\_\_\_\_

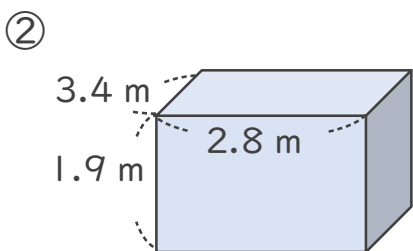
<筆算>

<筆算>

× \_\_\_\_\_

× \_\_\_\_\_

答え： \_\_\_\_\_



式： \_\_\_\_\_

<筆算>

<筆算>

× \_\_\_\_\_

× \_\_\_\_\_

答え： \_\_\_\_\_





# 小数のかけ算 17

◎ 直方体の体積

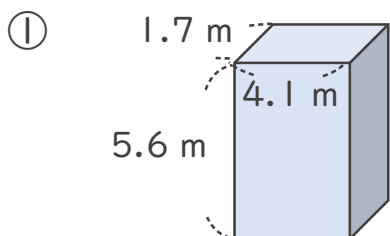
16

点数 点

目指せ80点!

名まえ \_\_\_\_\_

・次の立体の体積は何 $m^3$ でしょうか。(式：20点、筆算・答え：各10点)



式：  $1.7 \times 4.1 \times 5.6 = 39.032$

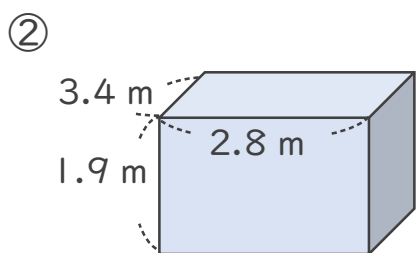
<筆算>

$$\begin{array}{r} 1.7 \\ \times 4.1 \\ \hline 17 \\ 68 \\ \hline 6.97 \end{array}$$

<筆算>

$$\begin{array}{r} 6.97 \\ \times 5.6 \\ \hline 4182 \\ 3485 \\ \hline 39.032 \end{array}$$

答え：  $39.032 m^3$



式：  $3.4 \times 2.8 \times 1.9 = 18.088$

<筆算>

$$\begin{array}{r} 3.4 \\ \times 2.8 \\ \hline 272 \\ 68 \\ \hline 9.52 \end{array}$$

<筆算>

$$\begin{array}{r} 9.52 \\ \times 1.9 \\ \hline 8568 \\ 952 \\ \hline 18.088 \end{array}$$

答え：  $18.088 m^3$

