



小数のかけ算 16

◎ 長方形の面積

16

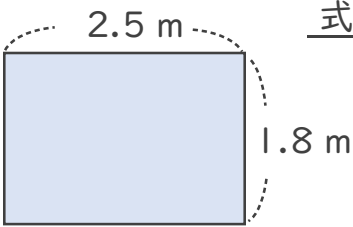
点数 点

目指せ80点!

名まえ _____

1. 次の長方形の面積は何㎡でしょうか。(式・答え 各20点)

① <筆算>

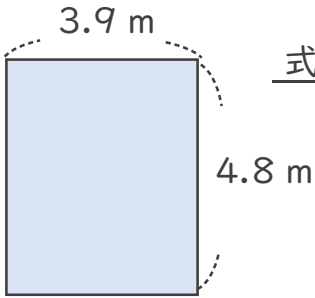


式: _____

×

答え: _____

② <筆算>



式: _____

×

答え: _____

2. 積が4より大きくなるもの、同じものをすべて選び、番号を書きましょう。(各10点)

- ① 4×0.9 ② 4×1.2 ③ 4×0.8 ④ 4×1 ⑤ 4×1.9

大きくなるもの: _____

同じもの: _____





小数のかけ算 16

◎ 長方形の面積

16

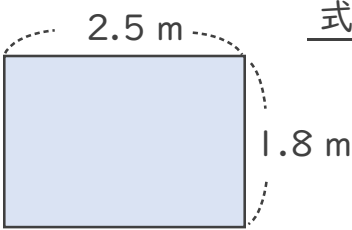
点数 点

目指せ80点!

名まえ _____

1. 次の長方形の面積は何㎡でしょうか。(式・答え 各20点)

①



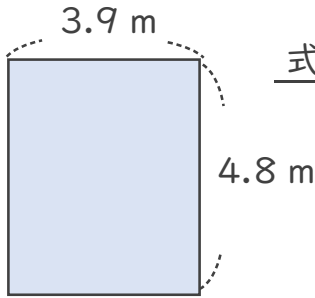
式: $1.8 \times 2.5 = 4.5$

答え: 4.5 m^2

<筆算>

$$\begin{array}{r}
 1.8 \\
 \times 2.5 \\
 \hline
 90 \\
 36 \\
 \hline
 4.50
 \end{array}$$

②



式: $4.8 \times 3.9 = 18.72$

答え: 18.72 m^2

<筆算>

$$\begin{array}{r}
 4.8 \\
 \times 3.9 \\
 \hline
 432 \\
 144 \\
 \hline
 18.72
 \end{array}$$

2. 積が4より大きくなるもの、同じものをすべて選び、番号を書きましょう。(各10点)

- ① 4×0.9 ② 4×1.2 ③ 4×0.8 ④ 4×1 ⑤ 4×1.9

大きくなるもの: ② と ⑤

同じもの: ④

