

小数の倍3

◎ リボンを小数倍した長さ

16

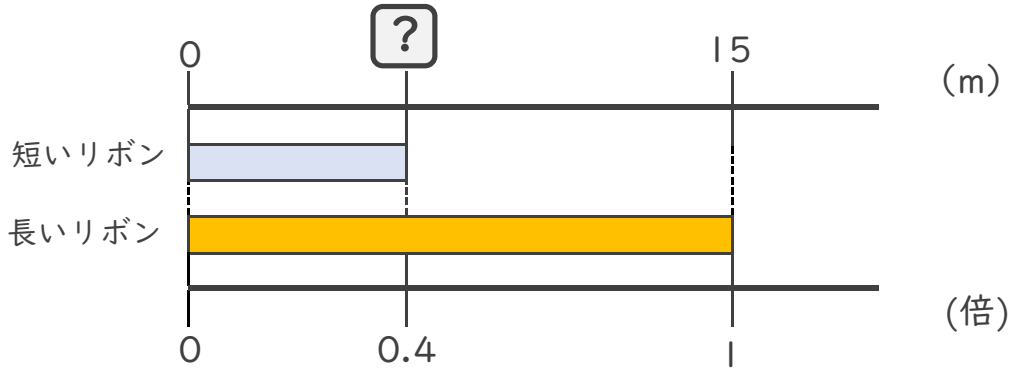
点数 点

目指せ75点!

名まえ

・ 次の問いに答えましょう。(各25点)

① 短いリボンは長いリボンの0.8倍の長さです。短いリボンの長さをもとめましょう。



式：

答え：

② 10mの赤いリボンがあります。青いリボンは赤いリボンの0.2倍の長さです。青いリボンの長さをもとめましょう。

式：

答え：

③ 5mのリボンと25mのリボンがあります。短いリボンは長いリボンの何倍でしょうか？

式：


答え：

④ 21mのリボンと15mのリボンがあります。長いリボンは短いリボンの何倍でしょうか？

式：

答え：





小数の倍3

㊦ リボンを小数倍した長さ

16

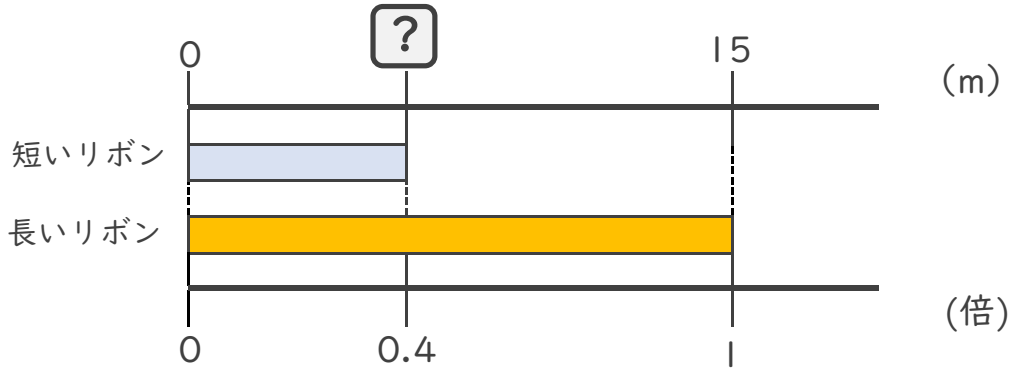
点数 点

目指せ75点!

名まえ

・ 次の問いに答えましょう。(各25点)

① 短いリボンは長いリボンの0.8倍の長さです。短いリボンの長さをもとめましょう。



式: $15 \times 0.4 = 6$

答え: 6m

② 10mの赤いリボンがあります。青いリボンは赤いリボンの0.2倍の長さです。青いリボンの長さをもとめましょう。

式: $10 \times 0.2 = 2$

答え: 2m

③ 5mのリボンと25mのリボンがあります。短いリボンは長いリボンの何倍でしょうか?

式: $5 \div 25 = 0.2$

答え: 0.2倍

④ 21mのリボンと15mのリボンがあります。長いリボンは短いリボンの何倍でしょうか?

式: $21 \div 15 = 1.4$

答え: 1.4倍

