

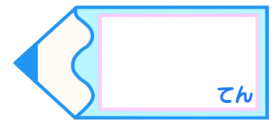


小数の倍3

◎ リボンを小数倍した長さ

16

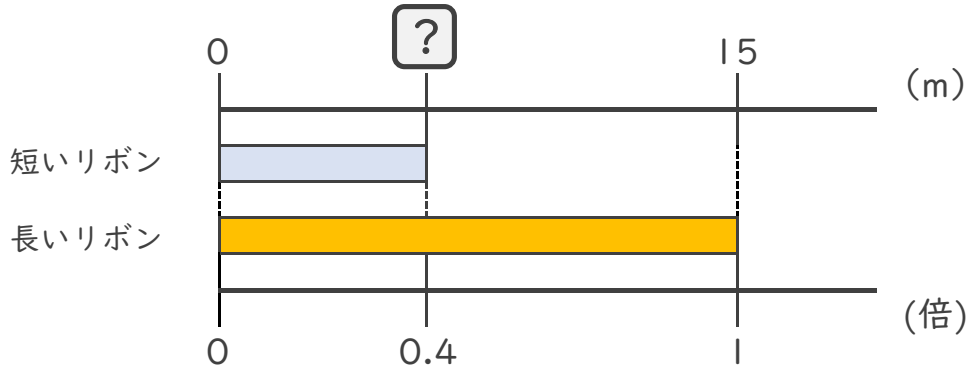
目指せ75点!



名まえ

・ 次の問いに答えましょう。(各25点)

- ① 短いリボンは長いリボンの0.8倍の長さです。
短いリボンの長さをもとめましょう。



式：

答え：

- ② 10mの赤いリボンがあります。青いリボンは赤いリボンの0.2倍の長さです。青いリボンの長さをもとめましょう。

式：

答え：

- ③ 5mのリボンと25mのリボンがあります。
短いリボンは長いリボンの何倍ですか。

式：

答え：

- ④ 21mのリボンと15mのリボンがあります。
長いリボンは短いリボンの何倍ですか。

式：

答え：



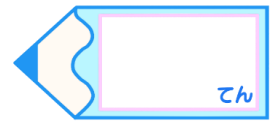


小数の倍3

◎ リボンを小数倍した長さ



目指せ75点!

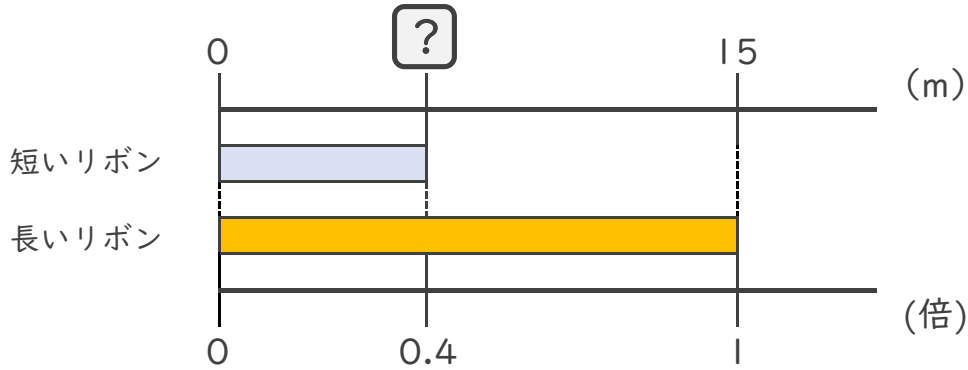


てん

名まえ

・ 次の問いに答えましょう。(各25点)

- ① 短いリボンは長いリボンの0.8倍の長さです。
短いリボンの長さをもとめましょう。



式: $15 \times 0.4 = 6$

答え: 6m

- ② 10mの赤いリボンがあります。青いリボンは赤いリボンの0.2倍の長さです。青いリボンの長さをもとめましょう。

式: $10 \times 0.2 = 2$

答え: 2m

- ③ 5mのリボンと25mのリボンがあります。
短いリボンは長いリボンの何倍ですか。

式: $5 \div 25 = 0.2$

答え: 0.2倍

- ④ 21mのリボンと15mのリボンがあります。
長いリボンは短いリボンの何倍ですか。

式: $21 \div 15 = 1.4$

答え: 1.4倍

