




四角形と
三角形の面積 5

● 三角形の面積を求める公式

16

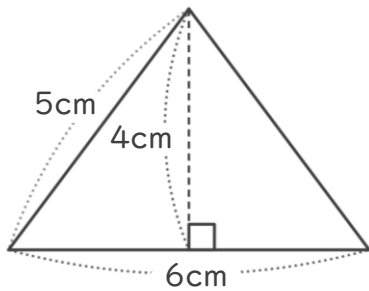
めざせ75点!



名まえ

・ 次の三角形の面積を計算でもとめましょう。(各25点)

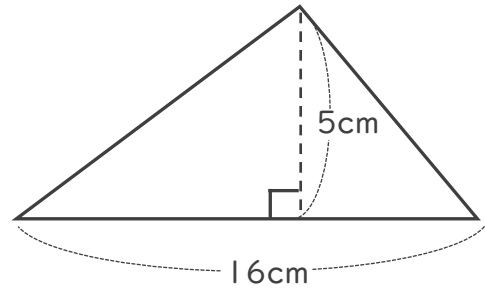
①



式:

答え:

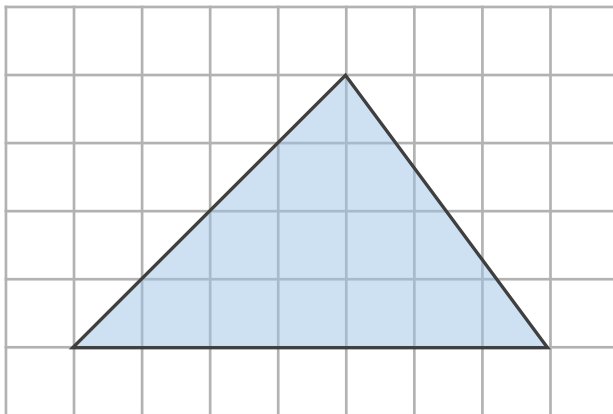
②



式:

答え:

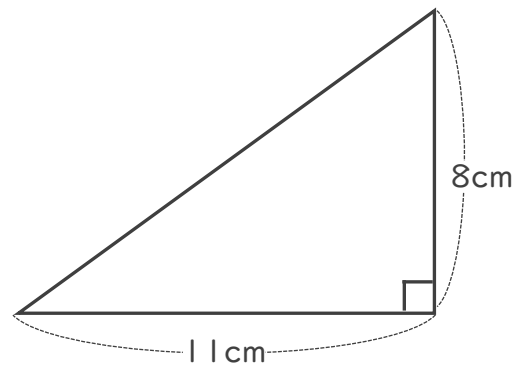
③



式:

答え:

④



式:

答え:




四角形と
三角形の面積 5

● 三角形の面積を求める公式

16

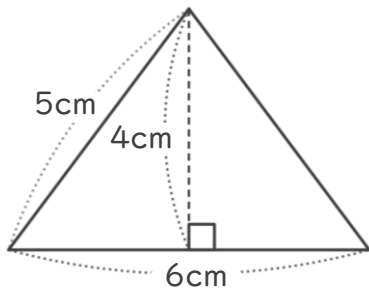
めざせ100点!



名まえ _____

・ 次の三角形の面積を計算でもとめましょう。(各25点)

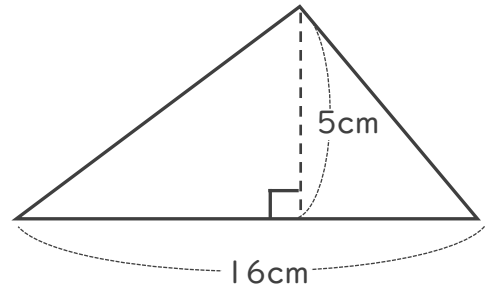
①



式: $6 \times 4 \div 2 = 12$

答え: 12cm^2

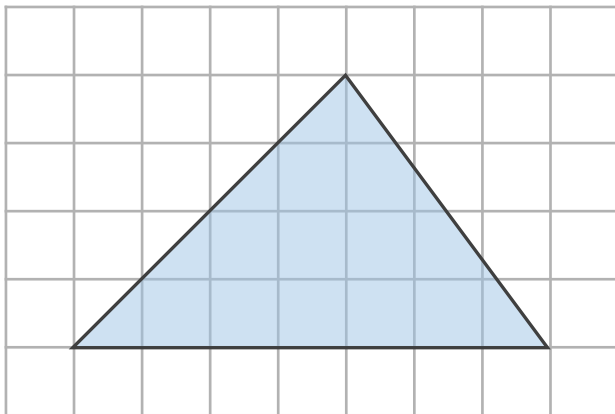
②



式: $16 \times 5 \div 2 = 40$

答え: 40cm^2

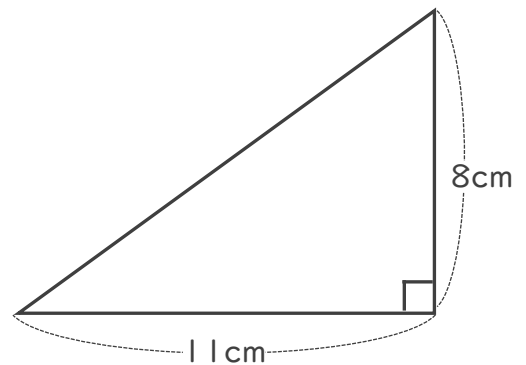
③



式: $7 \times 4 \div 2 = 14$

答え: 14cm^2

④



式: $11 \times 8 \div 2 = 44$

答え: 44cm^2