

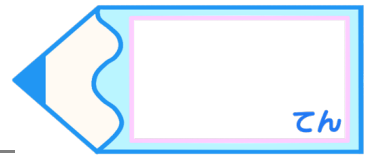
小数の倍とわり算3

◎上がり方(何倍か)を比べる

16

名まえ

目指せ75点!



・次の問いに答えましょう。

(各25点)

1 りんごとメロンがあります。この10年間でりんごは85円から102円へ、メロンは860円から1075円へ値上がりしました。ねだんの上がり方はどちらの方が大きいと言えるでしょう。

式：

答え：

2 あるノートと筆箱があります。この10年間でノートは90円から99円へ、筆箱は880円から1012円へ値上がりしました。ねだんの上がり方はどちらの方が大きいと言えるでしょう。

式：

答え：

3 プリンとケーキがあります。この10年間でプリンは90円から117円へ、ケーキは480円から600円へ値上がりしました。ねだんの上がり方はどちらの方が大きいと言えるでしょう。


式：

答え：

4 長さのちがう2本のテープがあります。長いテープは19.5cm、短いテープは15.6cmです。短いテープの長さをもとにすると、長いテープの長さは何倍ですか。

式：

答え：




小数の倍とわり算3

◎上がり方(何倍か)を比べる

16

名まえ

目指せ75点!



・次の問いに答えましょう。

(各25点)

1 りんごとメロンがあります。この10年間でりんごは85円から102円へ、メロンは860円から1075円へ値上がりしました。ねだんの上がり方はどちらの方が大きいと言えるでしょう。

式： りんご	メロン
$102 \div 85 = 1.2$	$1075 \div 860 = 1.25$

答え： メロン

2 あるノートと筆箱があります。この10年間でノートは90円から99円へ、筆箱は880円から1012円へ値上がりしました。ねだんの上がり方はどちらの方が大きいと言えるでしょう。

式： ノート	筆箱
$99 \div 90 = 1.1$	$1012 \div 880 = 1.15$

答え： 筆箱

3 プリンとケーキがあります。この10年間でプリン90円から117円へ、ケーキは480円から600円へ値上がりしました。ねだんの上がり方はどちらの方が大きいと言えるでしょう。

式： プリン	ケーキ
$117 \div 90 = 1.3$	$600 \div 480 = 1.25$

答え： プリン

4 長さのちがう2本のテープがあります。長いテープは19.5cm、短いテープは15.6cmです。短いテープの長さをもとにすると、長いテープの長さは何倍ですか。

式： $19.5 \div 15.6 = 1.25$

答え： 1.25 倍