




直方体や 立方体の体積

16

● 体積の単位の関係

めざせ80点!



名まえ _____

1 にあてはまる数を書きましょう。(各20点)

① $9\text{m}^3 =$ cm^3

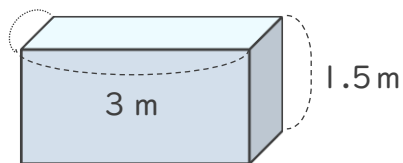
② $4000\text{L} =$ m^3

③ $42\text{mL} =$ cm^3

④ $70000\text{cm}^3 =$ L

⑤ $600\text{cm}^3 =$ mL

2 次の立体の体積は何 m^3 ですか。また、何 L ですか。(各10点)



式：

答え (m^3) ・ (L)





直方体や 立方体の体積

● 体積の単位の関係

16

めざせ80点!



名まえ _____

1 にあてはまる数を書きましょう。(各20点)

① $9\text{m}^3 =$ cm^3

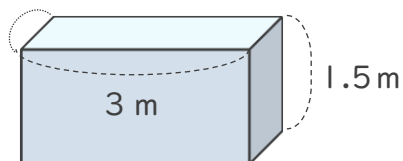
② $4000\text{L} =$ m^3

③ $42\text{mL} =$ cm^3

④ $70000\text{cm}^3 =$ L

⑤ $600\text{cm}^3 =$ mL

2 次の立体の体積は何 m^3 ですか。また、何 L ですか。(各10点)



式: $2 \times 3 \times 1.5 = 9$ (m^3)

答え (m^3) ・ (L)

