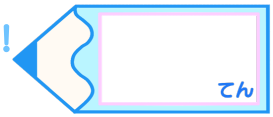


小数のわり算19

◎商を四捨五入して
概数で求める

16

目指せ75点!



名まえ _____

1 商は四捨五入して、上から2桁のがい数で求めましょう。 (各25点)

① $6.55 \div 1.7$

② $7.7 \div 3.1$

2 商が8より大きくなるのはどれですか？

(25点)

① $8 \div 3$

② $8 \div 0.64$

③ $8 \div 0.8$

④ $8 \div 1.9$

答え： _____

3 商が5より大きくなるのはどれですか？

(25点)

① $5 \div 2$


② $5 \div 1.01$

③ $5 \div 0.78$

④ $5 \div 0.6$

答え： _____



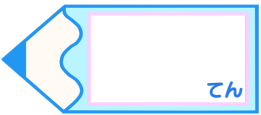


小数のわり算19

◎商を四捨五入して
概数で求める

16

目指せ75点!



名まえ _____

1 商は四捨五入して、上から2桁のがい数で求めましょう。 (各25点)

① $6.55 \div 1.7$

$$\begin{array}{r}
 3.85 \\
 1.7 \overline{) 6.550} \\
 \underline{51} \\
 145 \\
 \underline{136} \\
 90 \\
 \underline{85} \\
 5
 \end{array}$$

② $7.7 \div 3.1$

$$\begin{array}{r}
 2.48 \\
 3.1 \overline{) 7.700} \\
 \underline{62} \\
 150 \\
 \underline{124} \\
 260 \\
 \underline{248} \\
 12
 \end{array}$$

2 商が8より大きくなるのはどれですか？

(25点)

① $8 \div 3$

② $8 \div 0.64$

③ $8 \div 0.8$

④ $8 \div 1.9$

答え： ② と ③

3 商が5より大きくなるのはどれですか？

(25点)

① $5 \div 2$

② $5 \div 1.01$

③ $5 \div 0.78$

④ $5 \div 0.6$

答え： ③ と ④

