



平均 3

◎ 平均を比べてみよう



目指せ100点!



名まえ

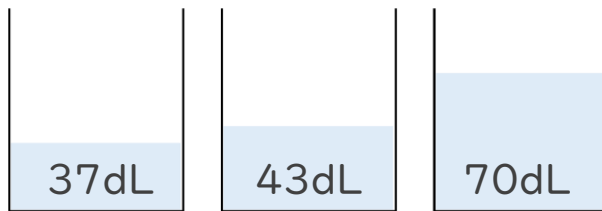
- 1 Aグループは、7人で折り紙のつるを98羽折りました。  
Bグループは、9人で折り紙のつるを162羽折りました。  
1人平均では、どちらのグループがたくさんつるを折ったでしょう。

(50点)

式:

答え ( )

- 2 次の水のかさの平均を求めましょう。(50点)



式:

答え ( )




平均 3

◎ 平均を比べてみよう

16

目指せ100点!



名まえ

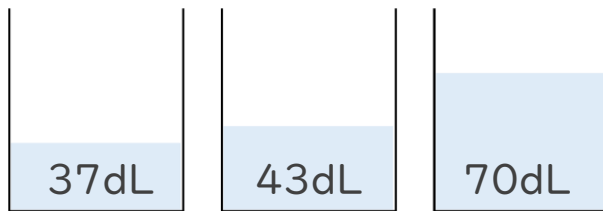
- 1 Aグループは、7人で折り紙のつるを98羽折りました。  
Bグループは、9人で折り紙のつるを162羽折りました。  
1人平均では、どちらのグループがたくさんつるを折ったでしょう。  
(50点)

式:  $A \cdots 98 \div 7 = 14$

$$B \cdots 162 \div 9 = 18$$

答え  $\left( B \text{ グループ} \right)$

- 2 次の水のかさの平均を求めましょう。(50点)



式:  $(37 + 43 + 70) \div 3$   
 $= 150 \div 3$   
 $= 50$

答え  $\left( 50\text{dL} \right)$