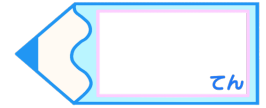


# 分数のたし算とひき算 I

◎ 数直線と大きさの等しい分数

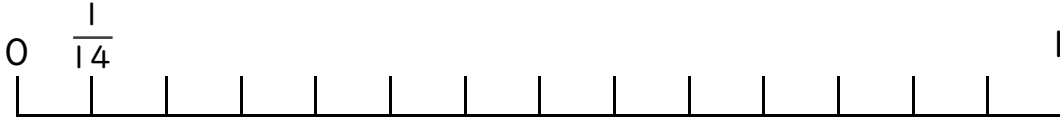
16

目指せ80点!



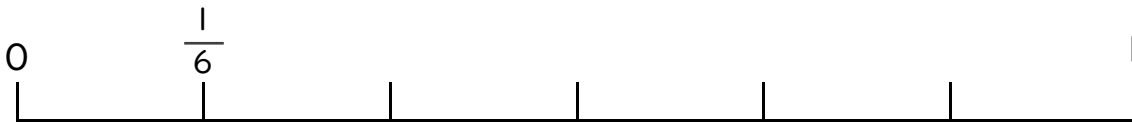
名まえ

1  $\frac{4}{7}$  と大きさの等しい分数を2つ見つけましょう。(各25点)




答え

2  $\frac{2}{3}$  と大きさの等しい分数を2つ見つけましょう。(各25点)



答え

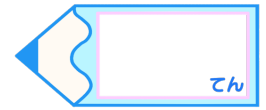


# 分数のたし算とひき算 I

◎ 数直線と大きさの等しい分数

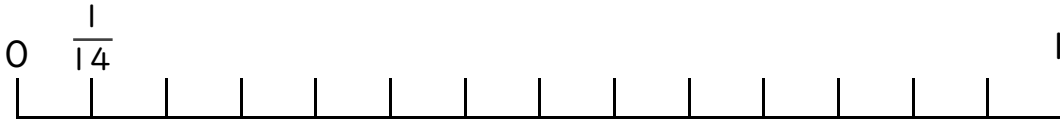
16

目指せ80点!



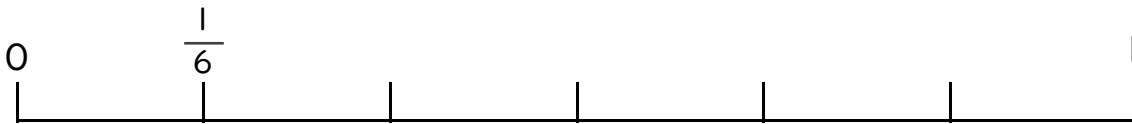
名まえ

1  $\frac{4}{7}$  と大きさの等しい分数を2つ見つけましょう。(各25点)



答え  $\frac{8}{14}$  と  $\frac{12}{21}$

2  $\frac{2}{3}$  と大きさの等しい分数を2つ見つけましょう。(各25点)



答え  $\frac{4}{6}$  と  $\frac{6}{9}$

