




分数のたし算とひき算 I

◎数直線と大きさの等しい分数

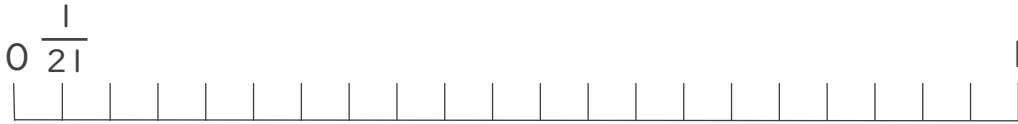
16

目指せ80点!



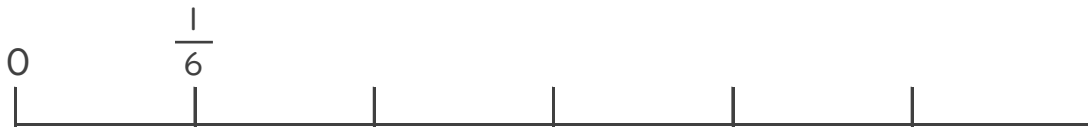
名まえ _____

1 $\frac{4}{7}$ と大きさの等しい分数を2つ見つけましょう。(各25点)



答え _____

2 $\frac{2}{3}$ と大きさの等しい分数を2つ見つけましょう。(各25点)



答え _____



分数のたし算とひき算 I

◎数直線と大きさの等しい分数

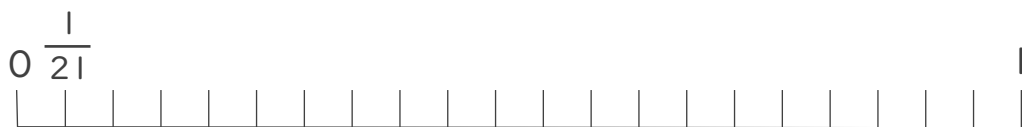
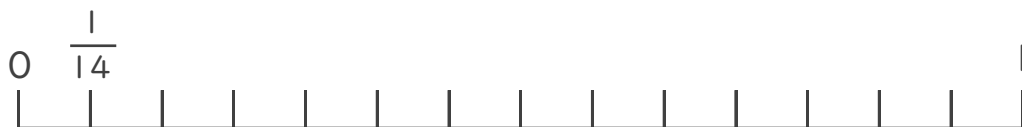
16

目指せ80点!



名まえ _____

1 $\frac{4}{7}$ と大きさの等しい分数を2つ見つけましょう。(各25点)



答え $\frac{8}{14}$ と $\frac{12}{21}$

2 $\frac{2}{3}$ と大きさの等しい分数を2つ見つけましょう。(各25点)



答え $\frac{4}{6}$ と $\frac{6}{9}$