

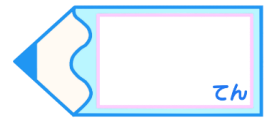


小数の倍2

◎ 短いリボンは
長いリボンの何倍？



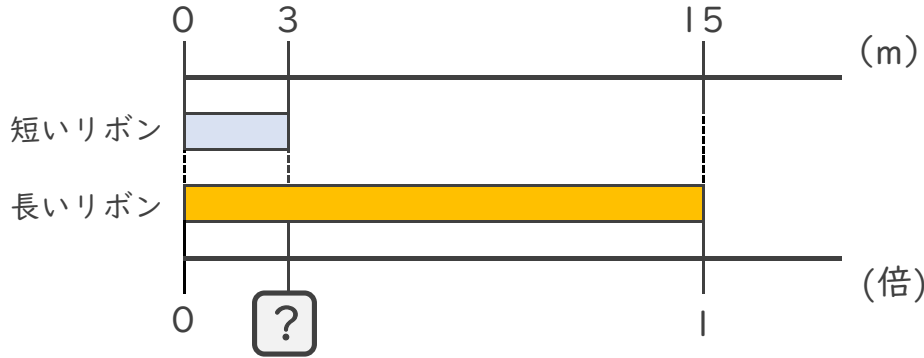
目指せ80点!



名まえ

・ 次の問いに答えましょう。

① 短いリボンは長いリボンの何倍ですか。(式・答え 各20点)



式：

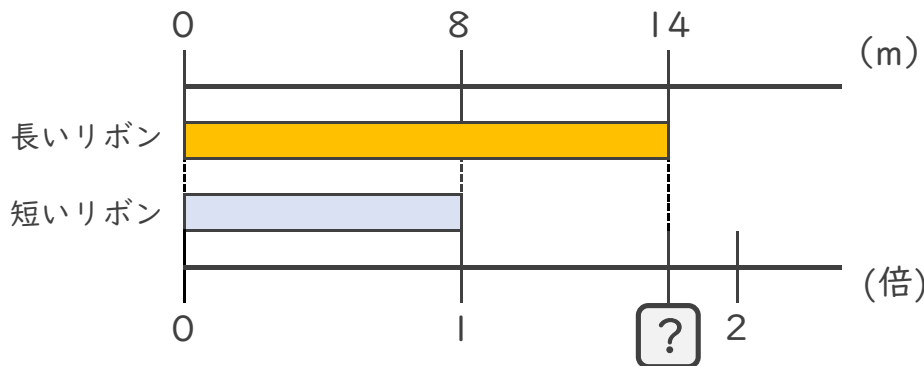
答え：

② 15mのリボンと20mのリボンがあります。
短いリボンは長いリボンの何倍ですか。(式・答え 各20点)

式：

答え：

③ 長いリボンは短いリボンの何倍ですか。(式・答え 各10点)



式：

答え：



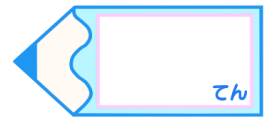


小数の倍2

◎ 短いリボンは
長いリボンの何倍？

16

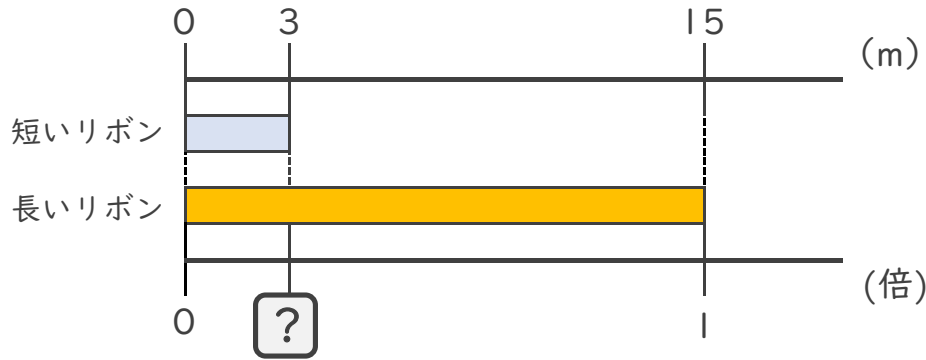
目指せ80点!



名まえ

・ 次の問いに答えましょう。

① 短いリボンは長いリボンの何倍ですか。(式・答え 各20点)



式： $3 \div 15 = 0.2$

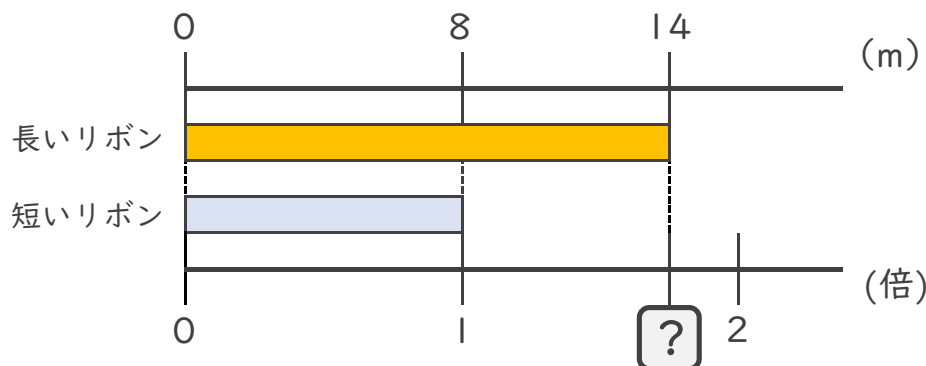
答え： 0.2倍

② 15mのリボンと20mのリボンがあります。
短いリボンは長いリボンの何倍ですか。(式・答え 各20点)

式： $15 \div 20 = 0.75$

答え： 0.75倍

③ 長いリボンは短いリボンの何倍ですか。(式・答え 各10点)



式： $14 \div 8 = 1.75$

答え： 1.75倍

