




分数のたし算とひき算 15

●【約分】2や3でわる



目指せ75点!



名まえ _____

1 次の分数を、^{やくぶん}約分しましょう。(各10点)

① $\frac{6}{9} =$

② $\frac{3}{6} =$

③ $\frac{8}{14} =$

④ $\frac{4}{18} =$

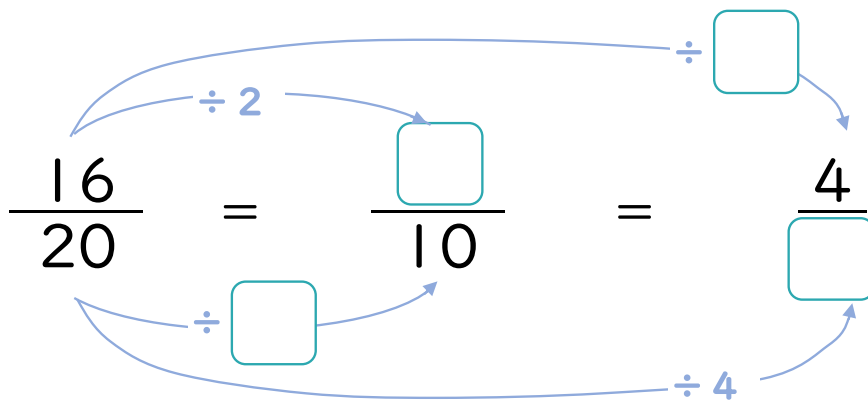
⑤ $\frac{9}{15} =$

⑥ $\frac{14}{20} =$

⑦ $\frac{10}{24} =$

⑧ $\frac{3}{12} =$

2 にあてはまる数を書きましょう。(各5点)






分数のたし算とひき算 15

【約分】2や3でわる

16

目指せ75点!



名まえ _____

1 次の分数を、^{やくぶん}約分しましょう。(各10点)

① $\frac{\cancel{6}^2}{\cancel{9}_3} = \frac{2}{3}$

② $\frac{\cancel{3}^1}{\cancel{6}_2} = \frac{1}{2}$

③ $\frac{\cancel{8}^4}{\cancel{14}_7} = \frac{4}{7}$

④ $\frac{\cancel{4}^2}{\cancel{18}_9} = \frac{2}{9}$

⑤ $\frac{\cancel{9}^3}{\cancel{15}_5} = \frac{3}{5}$

⑥ $\frac{\cancel{14}^7}{\cancel{20}_{10}} = \frac{7}{10}$

⑦ $\frac{\cancel{10}^5}{\cancel{24}_{12}} = \frac{5}{12}$

⑧ $\frac{\cancel{3}^1}{\cancel{12}_4} = \frac{1}{4}$

2 にあてはまる数を書きましょう。(各5点)

