




# 小数の倍①

◎ 長いリボンは  
短いリボンの何倍？



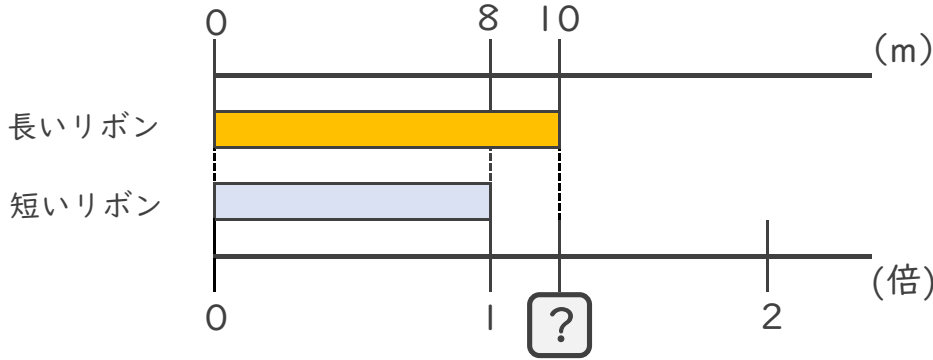
目指せ75点!



名まえ

・ 次の問いに答えましょう。(各25点)

① 長いリボンは短いリボンの何倍ですか。



式：

答え：

② 8mのリボンと14mのリボンがあります。  
長いリボンは短いリボンの何倍ですか。

式：

答え：

③ 12mのリボンと18mのリボンがあります。  
長いリボンは短いリボンの何倍ですか。

式：

答え：

④ 8mのリボンと18mのリボンがあります。  
長いリボンは短いリボンの何倍ですか。

式：

答え：






# 小数の倍①

㊦ 長いリボンは  
短いリボンの何倍？



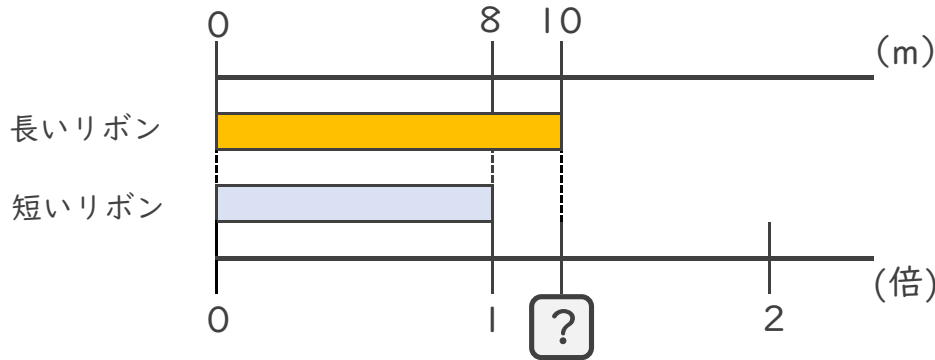
目指せ75点!



名まえ

・ 次の問いに答えましょう。(各25点)

① 長いリボンは短いリボンの何倍ですか。



$$\text{式： } 10 \div 8 = 1.25$$

答え： 1.25倍

② 8mのリボンと14mのリボンがあります。  
長いリボンは短いリボンの何倍ですか。

$$\text{式： } 14 \div 8 = 1.75$$

答え： 1.75倍

③ 12mのリボンと18mのリボンがあります。  
長いリボンは短いリボンの何倍ですか。

$$\text{式： } 18 \div 12 = 1.5$$

答え： 1.5倍

④ 8mのリボンと18mのリボンがあります。  
長いリボンは短いリボンの何倍ですか。

$$\text{式： } 18 \div 8 = 2.25$$

答え： 2.25倍

