




小数のかけ算 16

◎ 長方形の面積



目指せ80点!

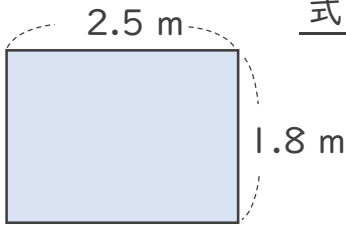


名まえ _____

1 次の長方形の面積は何㎡でしょうか。(各40点)

①

<筆算>



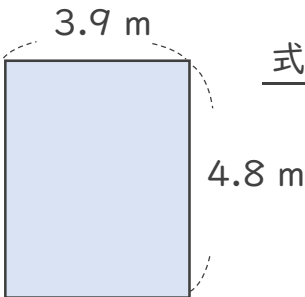
式: _____

×

答え: _____

②

<筆算>



式: _____

×

答え: _____

2 積が4より大きくなるもの、同じものをすべて選び、番号を書きましょう。(各10点)

- ① 4×0.9 ② 4×1.2 ③ 4×0.8 ④ 4×1 ⑤ 4×1.9

大きくなるもの: _____

同じもの: _____



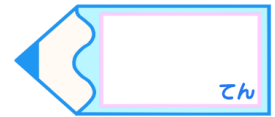


小数のかけ算 16

◎ 長方形の面積



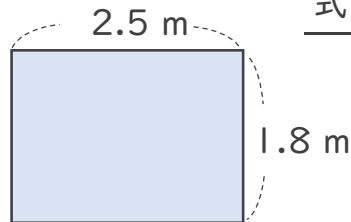
目指せ80点!



名まえ

1 次の長方形の面積は何㎡でしょうか。(各40点)

①



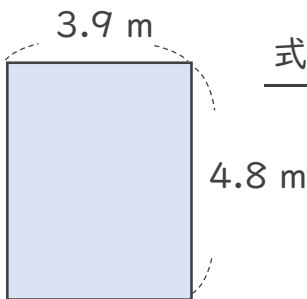
式: $1.8 \times 2.5 = 4.5$

答え: 4.5 m^2

<筆算>

$$\begin{array}{r} 1.8 \\ \times 2.5 \\ \hline 90 \\ 36 \\ \hline 4.50 \end{array}$$

②



式: $4.8 \times 3.9 = 18.72$

答え: 18.72 m^2

<筆算>

$$\begin{array}{r} 4.8 \\ \times 3.9 \\ \hline 432 \\ 144 \\ \hline 18.72 \end{array}$$

2 積が4より大きくなるもの、同じものをすべて選び、番号を書きましょう。(各10点)

- ① 4×0.9 ② 4×1.2 ③ 4×0.8 ④ 4×1 ⑤ 4×1.9

大きくなるもの: ② と ⑤

同じもの: ④

