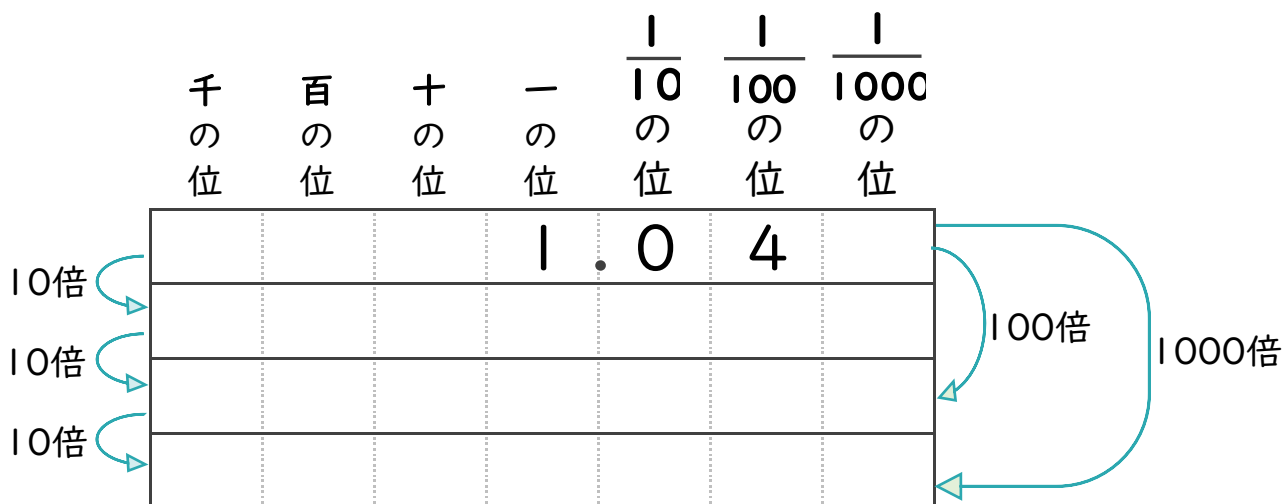




- 1 1.04を10倍、100倍、1000倍するとどんな数になるでしょう？
 (うすい文字は、しっかりなぞりましょう) (各15点・完答ボーナス5点)

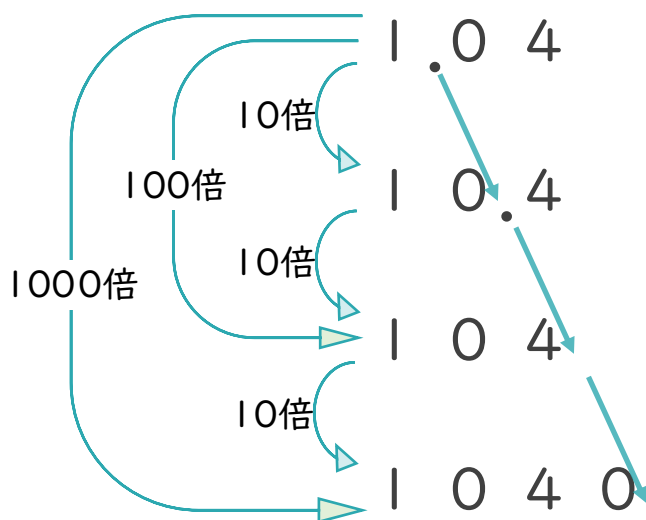



- 2 1.04を10倍、100倍、1000倍することを、式で表しましょう。
 (うすい文字は、しっかりなぞりましょう) (各15点・完答ボーナス5点)

1.04 × 10 =

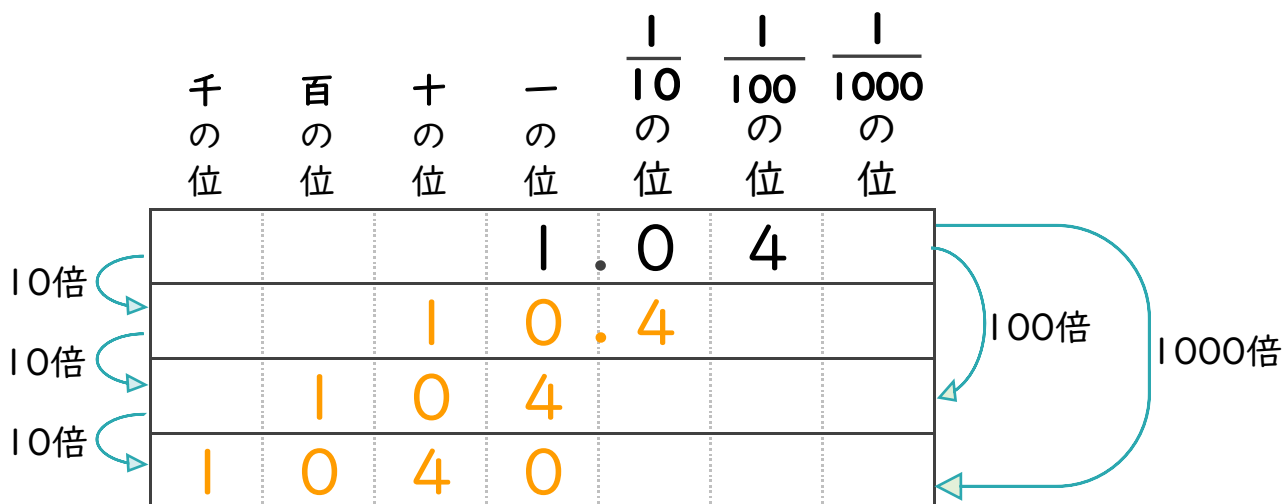
1.04 × 100 =

1.04 × 1000 =





- 1 1.04を10倍、100倍、1000倍するとどんな数になるでしょう？
 (うすい文字は、しっかりなぞりましょう) (各15点・完答ボーナス5点)



- 2 1.04を10倍、100倍、1000倍することを、式で表しましょう。
 (うすい文字は、しっかりなぞりましょう) (各15点・完答ボーナス5点)

$$1.04 \times 10 = 10.4$$

$$1.04 \times 100 = 104$$

$$1.04 \times 1000 = 1040$$

