




整数と小数8

16

◎10倍などの小数点の移動

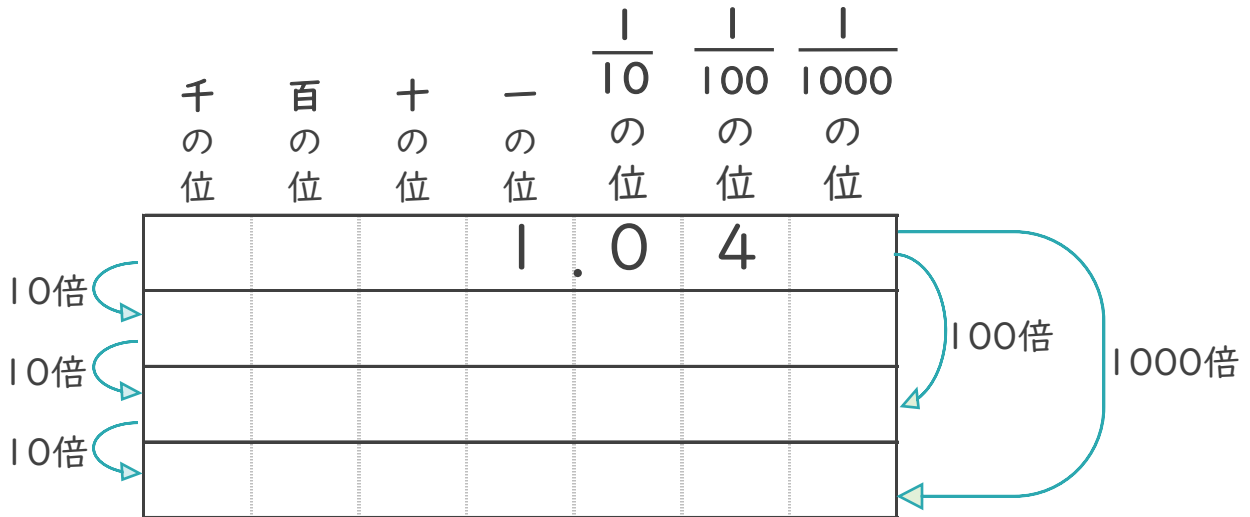
目指せ80点!



名まえ _____

1 1.04を10倍、100倍、1000倍するとどんな数になるでしょう。

(40点)



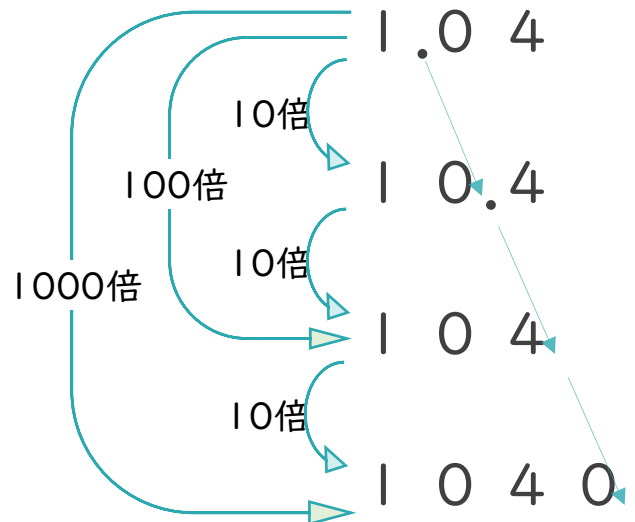
2 1.04を10倍、100倍、1000倍することを、式で表しましょう。

(各20点)

1.04 × 10 =

1.04 × 100 =

1.04 × 1000 =






整数と小数8

16

◎10倍などの小数点の移動

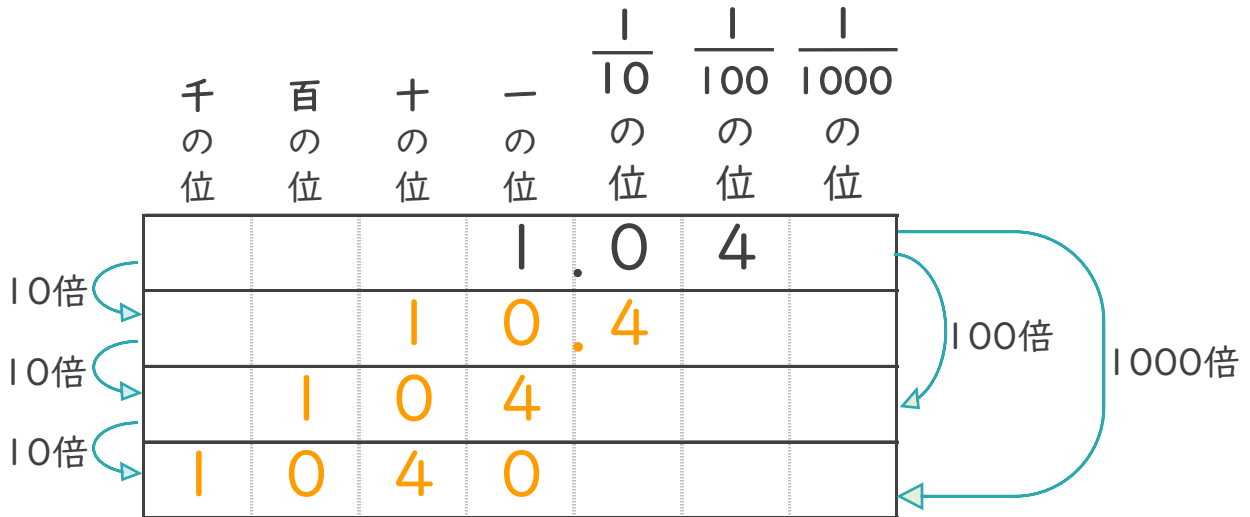
目指せ80点!



名まえ _____

1 1.04を10倍、100倍、1000倍するとどんな数になるでしょう。

(40点)



2 1.04を10倍、100倍、1000倍することを、式で表しましょう。

(各20点)

$$1.04 \times 10 = 10.4$$

$$1.04 \times 100 = 104$$

$$1.04 \times 1000 = 1040$$

