

# 小数のかけ算 16

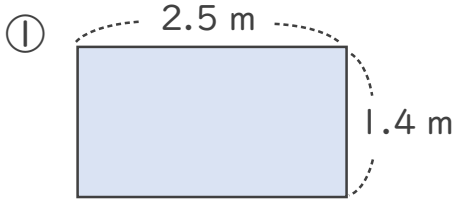
◎ 長方形の面積



日にち：            月            日

名まえ \_\_\_\_\_

・次の長方形の面積は何㎡でしょうか。



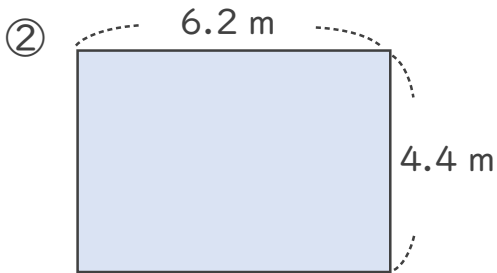
式：            たて            よこ            面積

$$\boxed{1.4} \times \boxed{2.5} = \boxed{\phantom{000}}$$

<筆算>

		1.4
	×	2.5
<hr/>		

答え： \_\_\_\_\_ m<sup>2</sup>



式：            たて            よこ            面積


$$\boxed{\phantom{000}} \times \boxed{\phantom{000}} = \boxed{\phantom{000}}$$

<筆算>

	×	
<hr/>		

答え： \_\_\_\_\_ m<sup>2</sup>





# 小数のかけ算 16

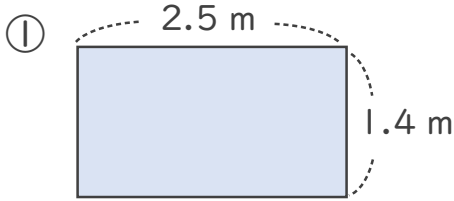
## ◎ 長方形の面積



日にち：            月            日

名まえ \_\_\_\_\_

・次の長方形の面積は何㎡でしょうか。

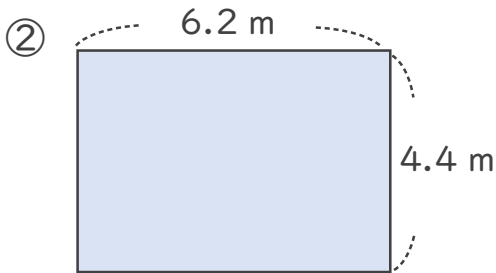


式： 
$$\begin{array}{c} \text{たて} \\ 1.4 \end{array} \times \begin{array}{c} \text{よこ} \\ 2.5 \end{array} = \begin{array}{c} \text{面積} \\ 3.5 \end{array}$$

<筆算>

		1.4
	×	2.5
		70
		28
		3.50

答え： 3.5 m<sup>2</sup>



式： 
$$\begin{array}{c} \text{たて} \\ 4.4 \end{array} \times \begin{array}{c} \text{よこ} \\ 6.2 \end{array} = \begin{array}{c} \text{面積} \\ 27.28 \end{array}$$

<筆算>

		4.4
	×	6.2
		88
		264
		27.28

答え： 27.28 m<sup>2</sup>

