



小数のわり算 18

㊦ あまりのあるわり算
(商が整数)

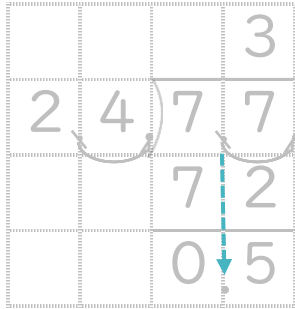


日にち： 月 日

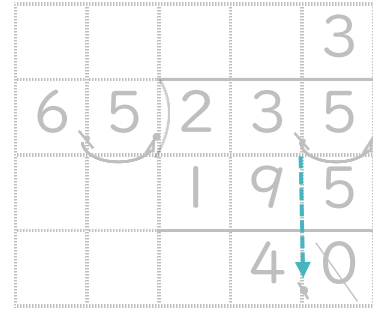
名まえ _____

- ・ 商は一の位まで求めて、あまりも出しましょう。
(うすい字は、なぞりましょう。)

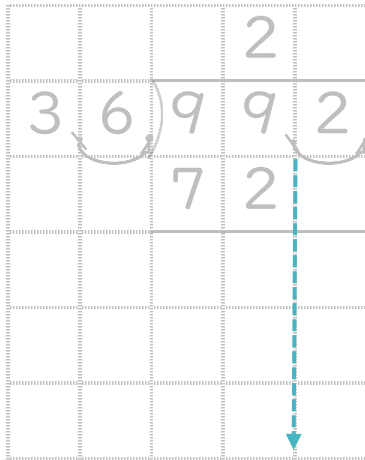
① $7.7 \div 2.4$



② $23.5 \div 6.5$



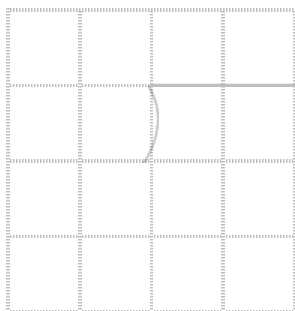
③ $99.2 \div 3.6$




④ $34.9 \div 2.5$



⑤ $8.2 \div 1.5$



⑥ $8.1 \div 2.6$





小数のわり算 18

㊦ あまりのあるわり算
(商が整数)

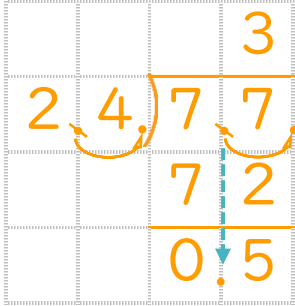


日にち： 月 日

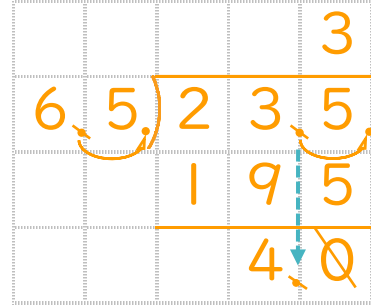
名まえ _____

- ・ 商は一の位まで求めて、あまりも出しましょう。
(うすい字は、なぞりましょう。)

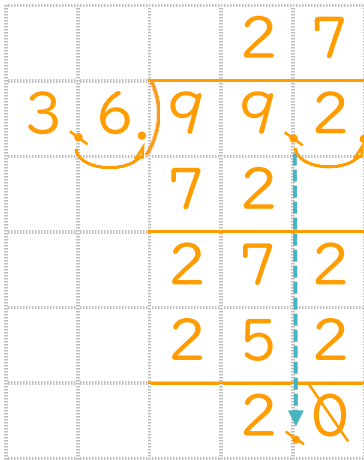
① $7.7 \div 2.4$



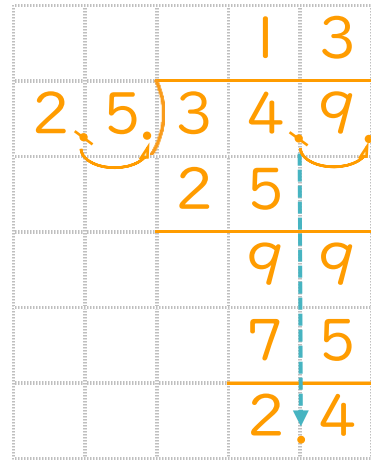
② $23.5 \div 6.5$



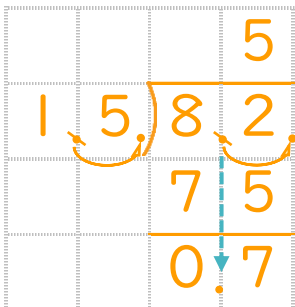
③ $99.2 \div 3.6$



④ $34.9 \div 2.5$



⑤ $8.2 \div 1.5$



⑥ $8.1 \div 2.6$

