



割合 8

● もとにする量・割合・
比べられる量を見分ける




日にち： 月 日

名まえ _____

・ 次の文について、問題に答えましょう。（うすい字はなぞりましょう。）

20cm は 200cm の 10% です。

200cmの10%



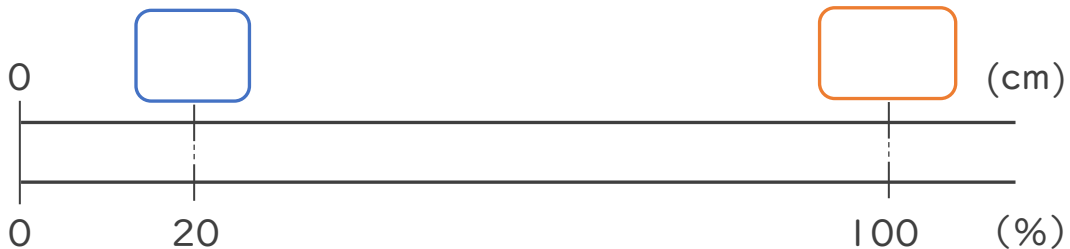
① 上の文で、もとにする量、^{りょう}比べられる量、^{わりあい}割合は、それぞれ何ですか。

もとにする量・・・ (200cm)

比べられる量・・・ (cm)

割合・・・ (%)

② 下の図で、にあてはまる数を書きましょう。



③ 次の にあてはまる言葉を書きましょう。

割合 = ÷





割合 8

● もとにする量・割合・
比べられる量を見分ける




日にち： 月 日

名まえ _____

・ 次の文について、問題に答えましょう。（うすい字はなぞりましょう。）

20cm は 200cm の 10% です。

200cmの10%



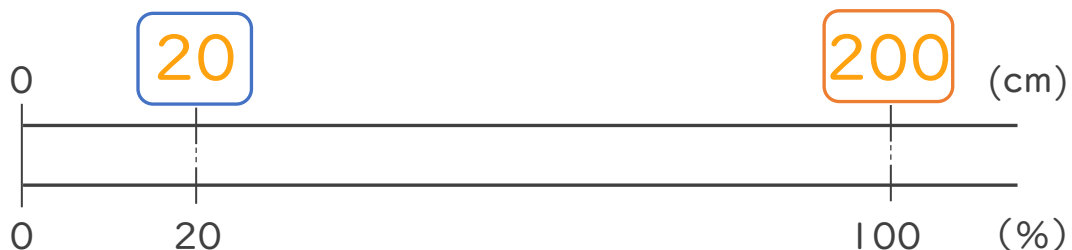
① 上の文で、もとにする量、^{りょう}比べられる量、^{わりあい}割合は、それぞれ何ですか。

もとにする量・・・ (200cm)

比べられる量・・・ (20cm)

割合・・・ (10%)

② 下の図で、□にあてはまる数を書きましょう。



③ 次の□にあてはまる言葉を書きましょう。

割合 = 比べられる量 ÷ もとにする量

