



小数の倍3

◎ リボンを小数倍した長さ

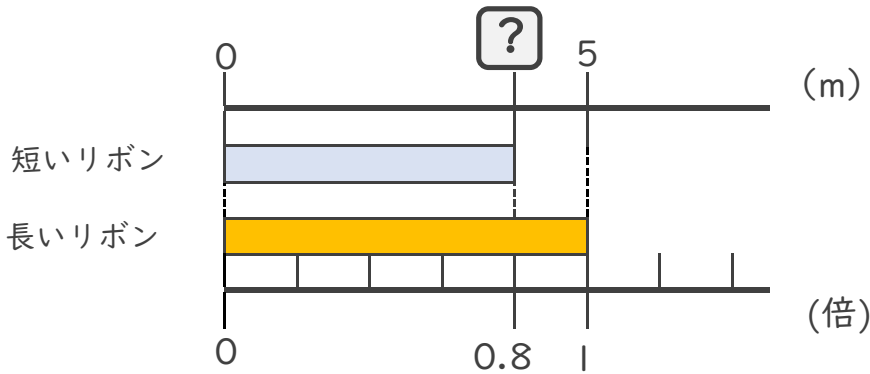


日にち： 月 日

名まえ _____

・ 次の問いに答えましょう。

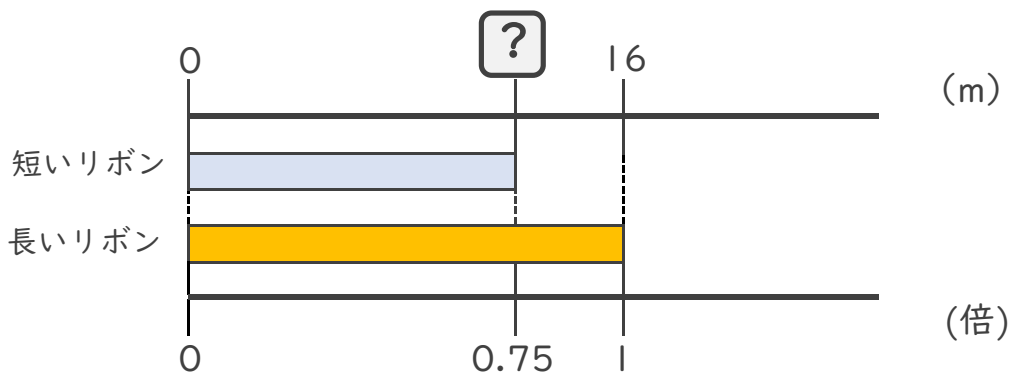
① 短いリボンは長いリボンの0.8倍の長さです。短いリボンの長さをもとめましょう。



式： $5 \times 0.8 =$

答え： _____ m

② 短いリボンは長いリボンの0.75倍の長さです。短いリボンの長さをもとめましょう。



式：

答え： _____





小数の倍3

◎ リボンを小数倍した長さ

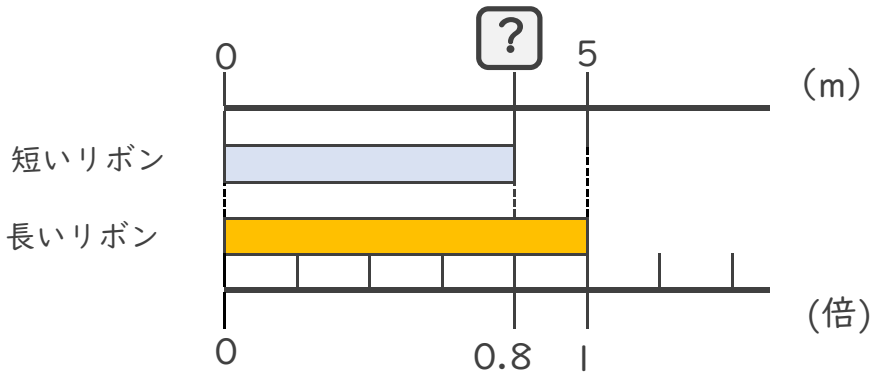


日にち： 月 日

名まえ

・ 次の問いに答えましょう。

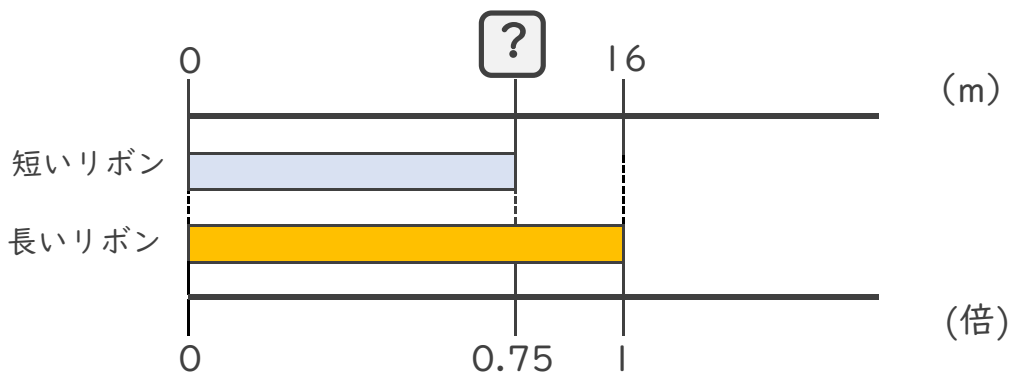
① 短いリボンは長いリボンの0.8倍の長さです。短いリボンの長さをもとめましょう。



式： $5 \times 0.8 = 4$

答え： 4m

② 短いリボンは長いリボンの0.75倍の長さです。短いリボンの長さをもとめましょう。



式： $16 \times 0.75 = 12$

答え： 12m

