



図形の角 3

● 三角形の外角

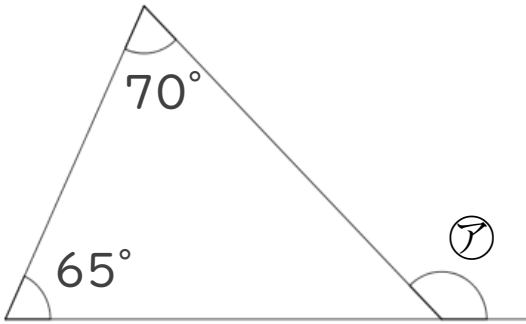


日にち： 月 日

名まえ _____

・次の図で、㉞～㉟の角度は何度ですか。
計算で求めましょう。(うすい字は、なぞりましょう。)

①

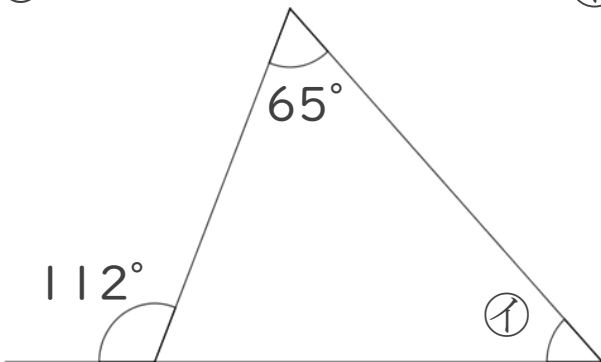


$$\textcircled{㉞} = 70 + 65$$

=

答え： _____

②

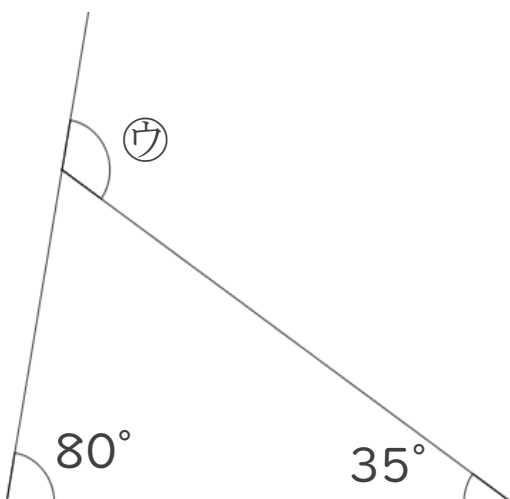


$$\textcircled{㉟} = 112 - 65$$

=

答え： _____

③



$$\textcircled{㉟} =$$

答え： _____



図形の角 3

● 三角形の外角

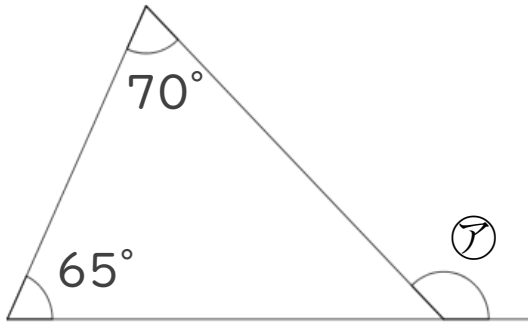


日にち： 月 日

名まえ _____

・次の図で、㉠～㉣の角度は何度ですか。
計算で求めましょう。(うすい字は、なぞりましょう。)

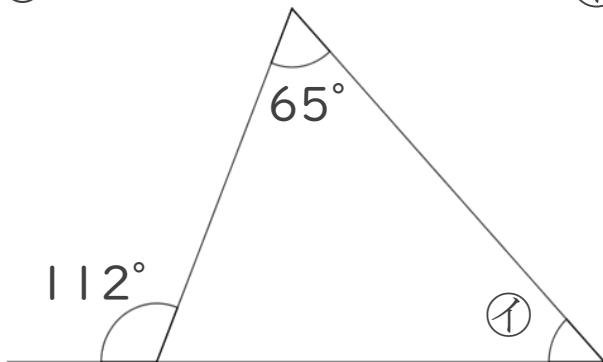
①



$$\begin{aligned} \textcircled{ア} &= 70 + 65 \\ &= 135 \end{aligned}$$

答え： 135°

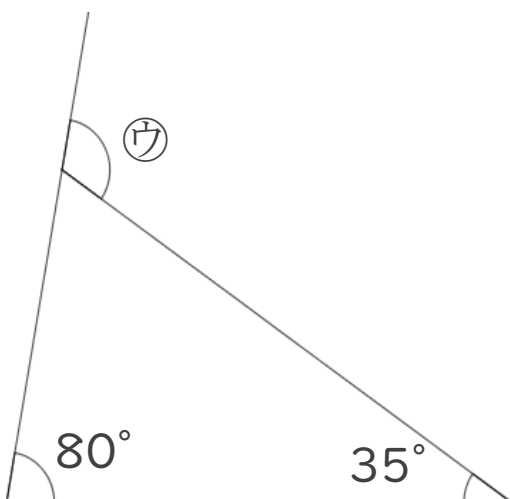
②



$$\begin{aligned} \textcircled{イ} &= 112 - 65 \\ &= 47 \end{aligned}$$

答え： 47°

③



$$\begin{aligned} \textcircled{ウ} &= 80 + 35 \\ &= 115 \end{aligned}$$

答え： 115°