



小数の倍 4

何倍かを求める文章題

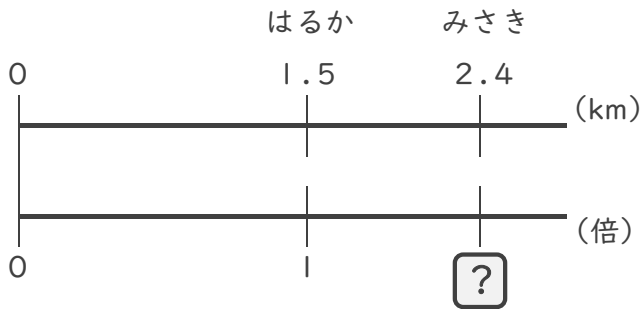


日にち： 月 日

名まえ _____

・ 次の問いに答えましょう。(うすい字は、なぞりましょう。)

1 はるかさんの家から駅までの道のりは1.5 km、みさきさんの家から駅までの道のりは2.4 kmあります。はるかさんの道のりをもとにすると、みさきさんの道のりは何倍ですか。



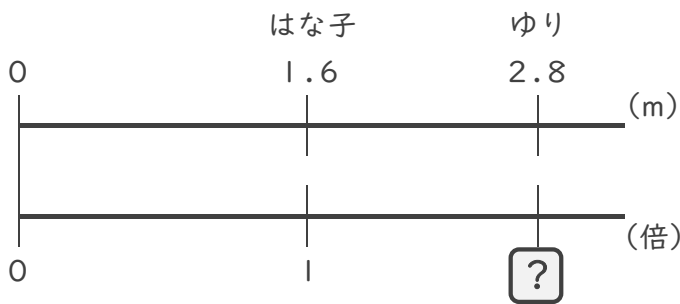
式： 1.5 × =

= ÷

=

答え： _____ 倍

2 はな子さんはリボンを1.6 m、ゆりさんは2.8 m持っています。はな子さんが持っているリボンをもとにすると、ゆりさんが持っているリボンの長さは何倍ですか。



式： × =

= ÷

=

答え： _____



小数の倍4

何倍かを求める文章題

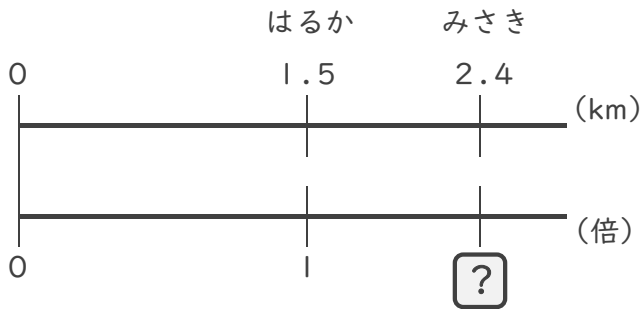


日にち： 月 日

名まえ _____

・ 次の問いに答えましょう。(うすい字は、なぞりましょう。)

1 はるかさんの家から駅までの道のりは1.5 km、みさきさんの家から駅までの道のりは2.4 kmあります。はるかさんの道のりをもとにすると、みさきさんの道のりは何倍ですか。



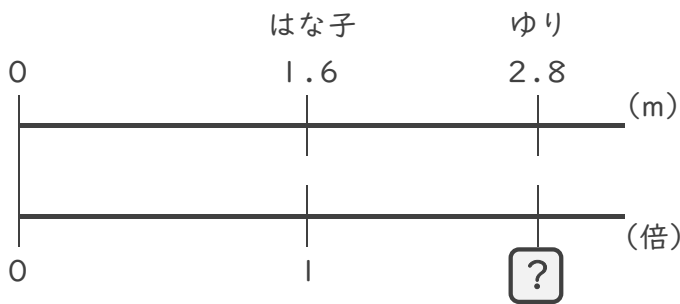
式： $1.5 \times \square = 2.4$

$\square = 2.4 \div 1.5$

$\square = 1.6$

答え： 1.6 倍

2 はな子さんはリボンを1.6 m、ゆりさんは2.8 m持っています。はな子さんが持っているリボンをもとにすると、ゆりさんが持っているリボンの長さは何倍ですか。



式： $1.6 \times \square = 2.8$

$\square = 2.8 \div 1.6$

$\square = 1.75$

答え： 1.75 倍