



角柱と円柱 5

2

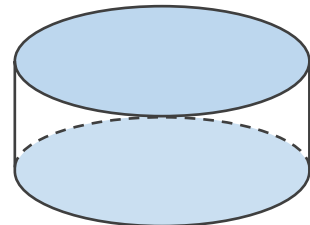
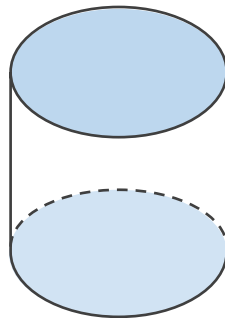
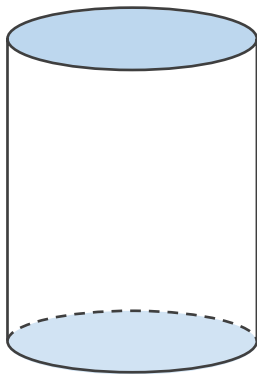
● 円柱とは

日にち： 月 日

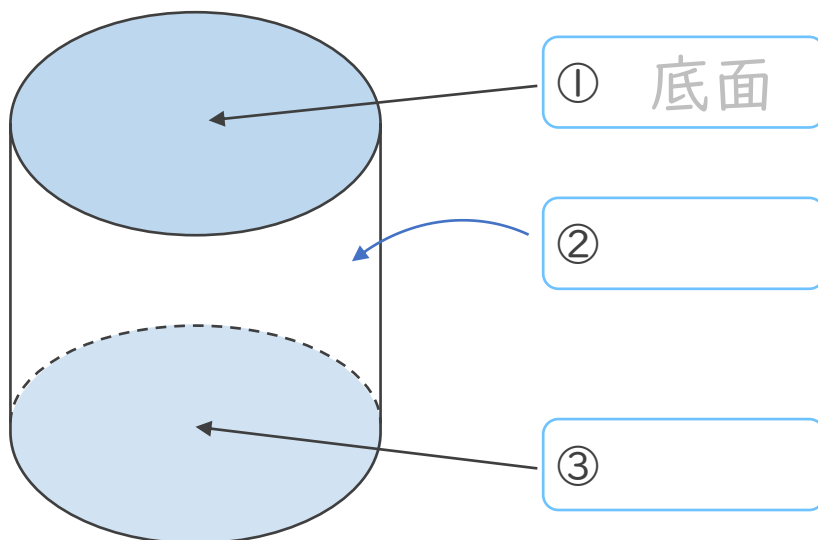
名まえ _____

1 下の図について、次の□にあてはまる言葉を書きましょう。
(うすい字はなぞりましょう)

- ① 下の図のような立体を えん ちゆう
円柱 といいます。
- ② 形も大きさも同じで、平行な2つの面を □ といいます。
- ③ 周りの面を □ といいます。
- ④ 円柱の側面は、平面ではなく □ になっています。



2 □に名前を書きましょう。





角柱と円柱 5

2

● 円柱とは

日にち： 月 日

名まえ _____

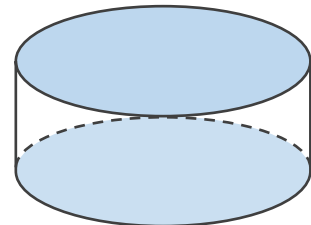
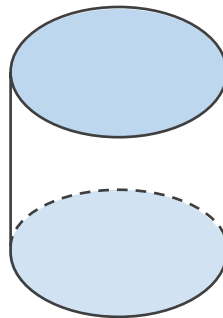
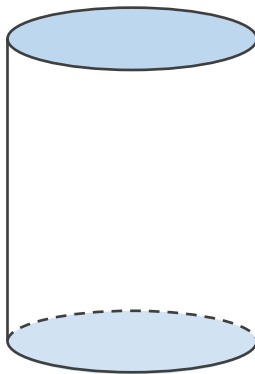
1 下の図について、次の□にあてはまる言葉を書きましょう。
(うすい字はなぞりましょう)

① 下の図のような立体を えん ちゆう
円柱 といいます。

② 形も大きさも同じで、平行な2つの面を ていめん
底面 といいます。

③ 周りの面を そくめん
側面 といいます。

④ 円柱の側面は、平面ではなく きょくめん
曲面 になっています。



2 □に名前を書きましょう。

