



単位量あたりの
大きさ 4

● 単位量から
比べられる量を求める

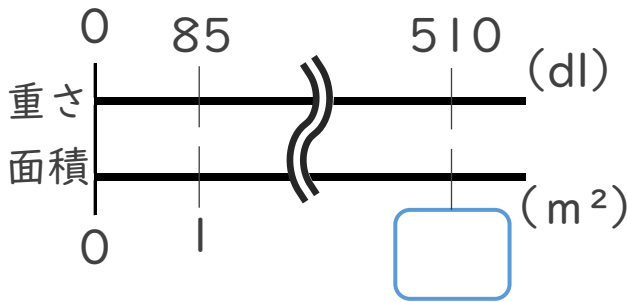


日にち： 月 日

名まえ _____

・ 次の問いに答えなさい。(うすい字はなぞりましょう。)

1 かべを 1 m^2 あたり 85 dL のペンキで塗ります。ペンキは 510 dL 必要です。
かべの面積を求めましょう。

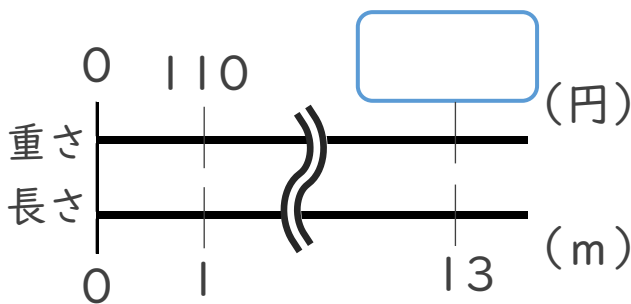


式： $510 \div 85 =$

筆算

答え： _____

2 1 m あたりのねだんが 110 円のリボンの 13 m のねだんはいくらでしょう。



式：

筆算

答え： _____



単位量あたりの
大きさ 4

● 単位量から
比べられる量を求める

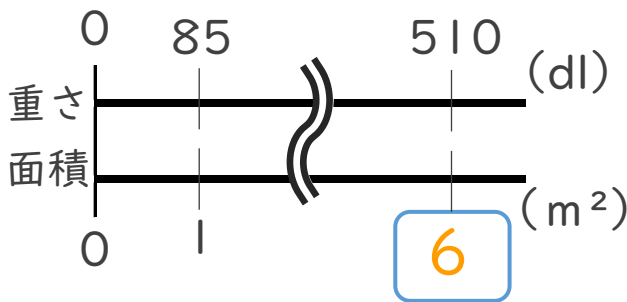


日にち： 月 日

名まえ _____

・ 次の問いに答えなさい。(うすい字はなぞりましょう。)

1 かべを 1 m^2 あたり 85 dL のペンキで塗ります。ペンキは 510 dL 必要です。
かべの面積を求めましょう。

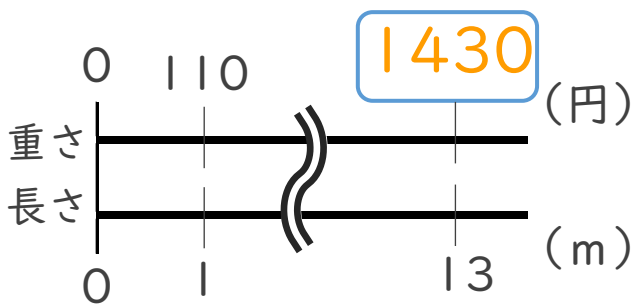


$$\text{式： } 510 \div 85 = 6$$

筆算

答え： 6 m²

2 1 m あたりのねだんが 110 円のリボンの 13 m のねだんはいくらでしょう。



$$\text{式： } 110 \times 13 = 1430$$

筆算

答え： 1430 円